

## 【苏教版期末试卷】

四年级数学上册

智慧山育儿微信公众号



扫描微信扫描二维码关注公众号可持续获取小学阶段的学习资料和课程

## 苏教版四年级数学上册期末试题

题号	一	二	三	四	五	六	七	总分
分数								

### 一、直接写出得数（每题 1 分，共 12 分）

$90 \div 6 =$	$630 \div 90 =$	$210 \div 30 =$	$200 \div 50 =$
$80 \div 20 =$	$23 + 67 =$	$660 - 600 =$	$13 \times 7 =$
$51 \div 3 =$	$150 - 30 =$	$320 \div 40 =$	$280 \div 70 =$

### 二、用竖式计算，有★的题要验算（每题 3 分，验算 1 分，共 10 分）

$127 \div 33$	$938 \div 46$	$\star 4400 \div 70$
---------------	---------------	----------------------

### 三、计算下面各题。（每题 3 分，共 12 分）

$400 \div 16 \times 5$	$74 \times (60 - 47) \div 37$
------------------------	-------------------------------

$358 - 160 \div 80 \times 154$	$720 \div (540 \div (100 - 40))$
--------------------------------	----------------------------------

### 四、填空（每空 2 分，共 28 分）

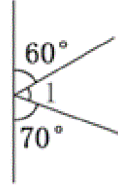
- 1、 $8 \square 8 \div 84$ ，如果商是一位数， $\square$ 里最大填\_\_\_\_\_；如果商是两位数， $\square$ 里最小能填\_\_\_\_\_。
- 2、 $\bigcirc \div 32 = \square \dots \dots \triangle$ 中，余数最大是\_\_\_\_\_。

3、两数相除，商是 6，余数是 3，如果被除数和除数同时乘 10，则商是\_\_\_\_\_，余数是\_\_\_\_\_。

4、3 分 = \_\_\_\_\_ 秒      9000 毫升 = \_\_\_\_\_ 升      600 分 = \_\_\_\_\_ 时

5、钟面上 9 时整，时针与分针所形成的角是\_\_\_\_\_角。

6、右边图中， $\angle 1$  是\_\_\_\_\_。



7、文具店卖出一种书包的数量和收入的钱数如下表：

卖出的数量/个	3	5	7	9	11
收入的钱数/元	78	130	182	234	286


昨天卖出 6 个书包，一共收入\_\_\_\_\_元，今天卖书包的收入是 312 元，今天卖出书包\_\_\_\_\_个。

8、 $\square\square\circ\diamond\square\square\circ\diamond\square\square\circ\diamond\dots\dots$

根据图形的排列规律，第 40 个图形是\_\_\_\_\_，第 47 个图形是\_\_\_\_\_。

### 五、画一画（每题 3 分，共 6 分）

- 1、画一个  $135^\circ$  的角。      2、画出已知直线的平行线。



### 六、选择合适的答案，在 $\square$ 里画“ $\checkmark$ ”（每题 2 分，共 8 分）

1、哪两道算式的商相等？

①  $640 \div 40$

②  $640 \div 4$

③  $6400 \div 400$

④  $6400 \div 4$

①和②

①和③

③和④

2、下面哪个容器的容量比 1 升大？



3、从一点到已知直线的所有连线中，与已知直线垂直的线段有多少条？

1 条

2 条

无数条

4、北山小学教职工的平均年龄是 31 岁，张老师今年 58 岁，他可能是这个学校的教职工吗？

不可能

可能


无法判断

### 七、解决实际问题（第 1、2 每题 4 分，第 3、4 每题 5 分，第 5 题 6 分，共 24 分）

1、张叔叔家今年收获了 960 千克萝卜，每筐装萝卜 24 千克。如果用平板车来运，每次可以运 4 筐，多少次可以把这些萝卜运完？

2、同学们排队做操，如果每排 20 人，一共要排成 30 排；如果每排 25 人，一共要排成多少排？

3、



48元



37元

王老师买了 15 副围棋和 18 副中国象棋，买哪种棋用去的钱数多？多多少元？

4、刘阿姨家塑料大棚里种了 95 平方米小白菜，上星期卖掉 40 平方米，共收入 480 元。照这样计算，这些小白菜一共可以卖多少元？

5、四年级三班男生体重情况如下：（单位：千克）

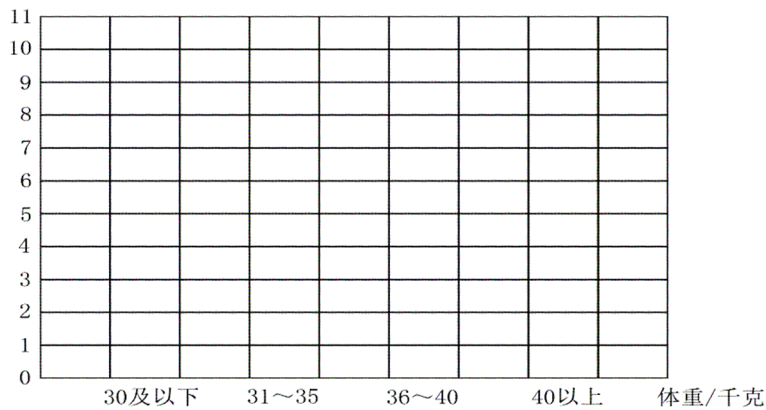
32 29 39 35 37 33 34 28 39  
39 41 31 37 38 39 40 39 38

（1）把上面的数据整理在表格里。

体重/千克	合 计	30 及以下	31 ~ 35	36 ~ 40	40 以上
数量/人					

（2）根据表中数据，完成下面的统计图。

数量/人 四年级三班男生体重情况统计图



（3）这个班的男生体重在哪一段人数最多？

### 查询答案方式

用微信扫描右侧二维码，  
关注智慧山微信号后，在  
智慧山微信号内回复“  
**答案**”，再在返回的页面  
选择对应版本的答案即可。

