

【苏教版单元测试系列试卷】

四年级数学上册第三单元

智慧山育儿微信公众号







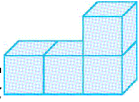



扫描微信扫描二维码关注公众号可持续获取小学阶段的学习资料和课程

苏教版四年级数学上册第三单元测验试题

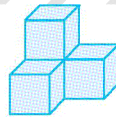
| | | | | | | | | |
|----|---|---|---|---|---|---|---|----|
| 题号 | 一 | 二 | 三 | 四 | 五 | 六 | 七 | 总分 |
| 分数 | | | | | | | | |

一、填空题。(10分)

1. 观察 , 从()面看到的是 , 从()面看到的是 , 从()面看到的是 .

2. 观察 , 从()面看到的是 , 从()面看到的是 , 从()面看到的是 .

3. 下面各图形分别是 从哪个面观察物体得到的?



() 面

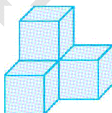



() 面

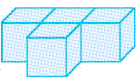




() 面

二、判断题。(对的画“√”, 错的画“×”)(10分)

1. 观察 , 从上面看到的是 。
()

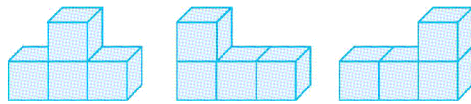
2. 观察 , 从上面看到的是 , 从右面看到的是 , 从前面看到的是 。
()

3. 观察  ,从右面看到的是  ,从前面看到的是  ,从上面看

到的是  。 ()

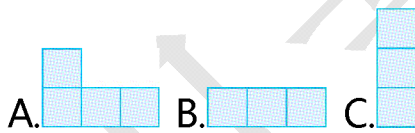
三、选择题。(把正确答案的序号填在括号里) (15分)


1. 下面三个立体图形从()看到的形状不同。



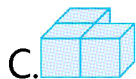
A. 前面 B. 上面 C. 右面

2.  是由 4 个小正方体摆成的,从上面看到的是()。

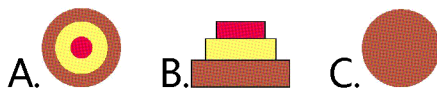


3. 有一个物体从前面和右面看,看到的都是  ,从上面看到的是

 ,这个物体的形状是()。

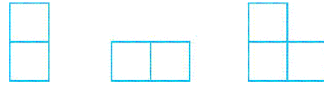


4.  是天天 10 岁的生日蛋糕,从前面看它的形状是()。



四、涂色题。（15分）

1. 给  从前面看到的图形涂上颜色。



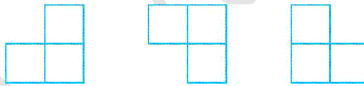
2. 给  从右面看到的图形涂上颜色。



3. 给  从前面看到的图形涂上颜色。

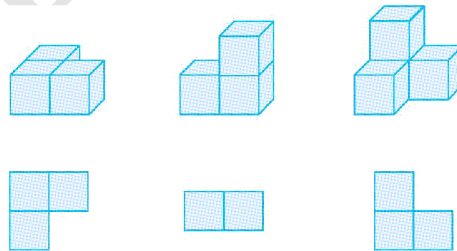


4. 给  从上面看到的图形涂上颜色。

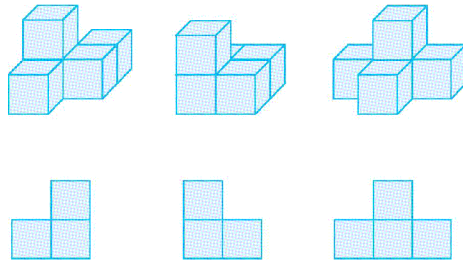


五、连线题。（15分）

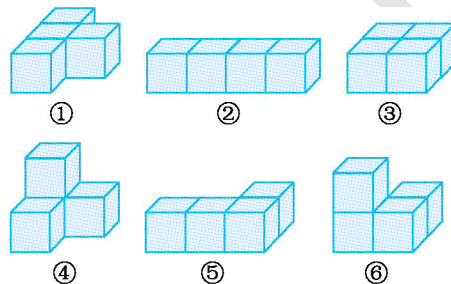
1. 下面的立体图形从上面看到的分别是什么形状？



2. 下面的立体图形从右面看到的分别是什么形状?



六、看一看,填一填。(15分)



1. 从右面看,看到的形状是 的有(),看到的形状是 的有(),看到的形状是 的有()。

2. 从上面看,看到的形状是 的有(),看到的形状是 的有()。

3. 从前面看形状是 的有()。

七、解决问题。(20分)

1. 红红、亮亮、聪聪分别用4块小正方体拼搭立体图形,下面是他们从立体图形的前面、上面和右面观察到的图形。



红红


:前面看到的是 ,右面看到的是 ,上面看到的是





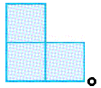
亮亮

:前面看到的是 , 右面看到的是 , 上面看到的是

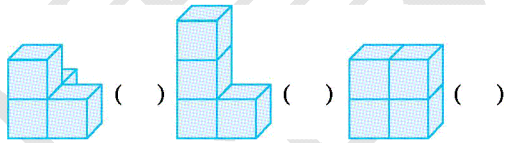


聪聪

:前面看到的是 , 右面看到的是 , 上面看到的是



根据拼搭的立体图形,在后面括号里填上对应的名字。



2.把下面的物体从前面、右面、上面看到的形状在方格纸上画出来。



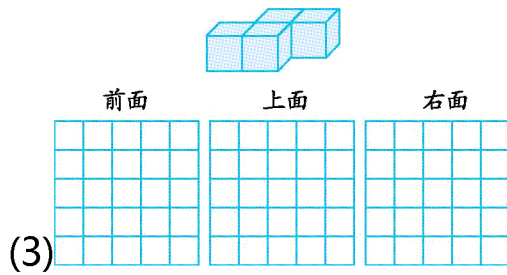
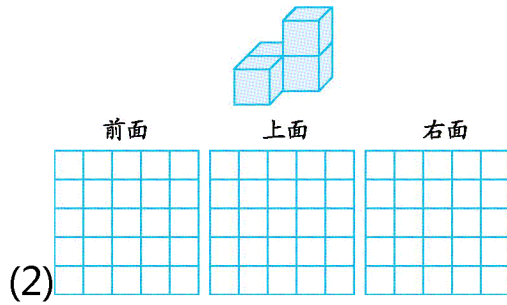
前面

上面


右面

(1)

| | | |
|----------|----------|----------|
| 4x4 grid | 4x4 grid | 4x4 grid |
|----------|----------|----------|



3.用 4 个同样大小的正方体按下面的要求摆一摆。

(1)从上面看到的是 。

(2)从上面看到的是 。

(3)从上面看到的是 。