

【苏教版单元测试系列试卷】

三年级数学下册第三单元

智慧山育儿微信公众号



扫描微信扫描二维码关注公众号可持续获取小学阶段的学习资料和老师课程

苏教版三年级数学下册第三单元测验试题

题号	一	二	三	四	五	六	七	八	九	总分
分数										

一、直接写出得数。

$$\begin{array}{ccccc}
 50 \times 50 = & 50 \times 8 = & 14 \times 3 = & 25 \times 8 = & 13 \times 7 = \\
 70 \times 40 = & 35 \times 11 = & 15 \times 5 = & 45 \times 9 = & 13 \times 14 =
 \end{array}$$

二、用竖式计算。

$$\begin{array}{ccc}
 39 \times 81 = & 64 \times 28 = & 59 \times 40 = \\
 \\
 \\
 \\
 45 \times 54 = & 55 \times 31 = & 50 \times 72 =
 \end{array}$$

三、根据问题补充条件，并列式计算。

1. 大皮球 48 个，小皮球有 3 箱。小皮球比大皮球多得多。

补充条件：_____


问题（一）_____列式_____

问题（二）小皮球比大皮球多多少个？列式_____

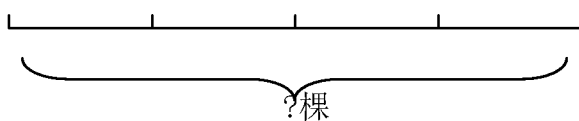
2.

（ ）棵

杨树：



松树：



补充条件：

问题（一）_____列式_____

问题（二）杨树和柳树一共有多少棵？列式_____

四、运用策略填表。

1、学校体育兴趣小组的人数统计如下，请你把表格填写完整。

一共	足球组	篮球组	田径组
82	21	()	37

2、李老师去商店购买劳动工具，你能把表格填写完整吗？

物品	单价(元)	数量	总价(元)
笤帚	21	80	()
纸篓	()	9	162
拖把	22	40	()

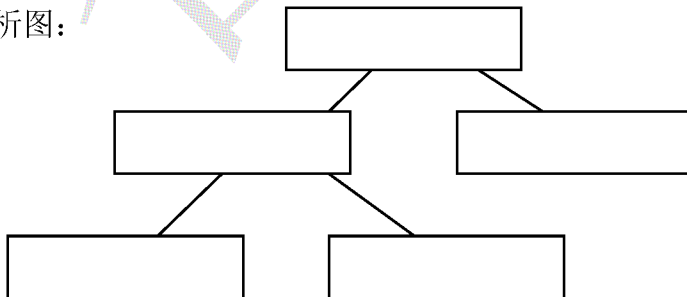
五、运用策略填空。

陈怡在期末考试时，语文考了95分，数学比语文多考了3分，她两门功课的总成绩是多少分？

解题思路：

要求()，需要知道()和()，关系式：
 (_____ = _____ + _____)。()已经告诉我们，()
 没有直接告诉，所以要先求()，用(_____ + _____)。

网式分析图：



列式解答：_____

答：_____

六、解决问题。

1、用 800 个鸡蛋孵小鸡，上午孵出了 328 只小鸡，下午比上午多孵出 104 只。

(1) 下午孵出了多少只小鸡？

(2) 这一天一共孵出了多少只小鸡？

(3) 还剩下多少个鸡蛋没有孵出小鸡？

2、一本故事书 148 页，吕平看了 3 天，每天看来 24 页。

(1) 他一共看了多少页？

(2) 还剩多少页没看？

(3) 他第四天应从多少页开始看？

3、一个果园里栽了 125 棵苹果树，梨树的棵数比苹果树的 4 倍少 20 棵。这个果园一共栽了多少棵树？

4、一段路长 324 米，已经修了 240 米，剩下的计划 4 小时修完。平均每小

时修多少米？

5、动物园里北极熊的体重是 880 千克，比棕熊重 400 千克。这两只动物的体重一共多少千克？

6、一个打字员 4 分钟输入 200 个汉字。照这样计算，输入 2888 个汉字一小時能打完吗？

七、思考题。

1、菜市场、电影院和学校在大路的一旁，菜市场距学校 320 米，电影院距学校 480 米。菜市场距电影院最少多少米？最多呢？

2、小睿比妈妈小 27 岁，妈妈今年的岁数正好是小睿的 4 倍。

(1) 小睿今年多少岁？

(2) 妈妈今年多少岁？

(3) 多少年后妈妈的岁数是小睿的两倍？