

【苏教版单元测试系列试卷】

二年级数学下册第三单元

智慧山育儿微信公众号



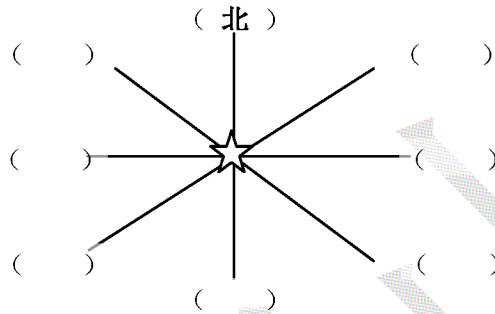
扫描微信扫描二维码关注公众号可持续获取小学阶段的学习资料和老师课程

苏教版二年级数学下册第三单元测验试题

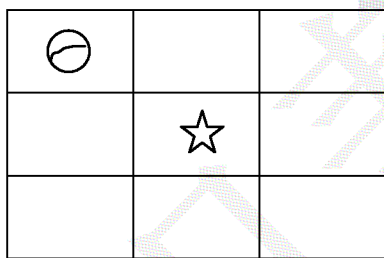
题号	一	二	三	四	五	六	七	八	九	总分
分数										

一、填空。

1、在 () 里填出八个方向。



2、按要求画图形，并填一填。



- 在☆的东南面画△。
- 在☆的西面画□。
- 在☆的东北面画○。
- ⊖ 在☆的 () 面，☆ 在 ⊖ 的 () 面。

3、下面是某市 201 路公交车的站牌，从火车站去市政府，要到第 () 块站牌下等车，要按自 () 向 () 的方向方向乘车，乘 () 站，途中经过 () 站。

201	火车站
建设路	市政府
少年宫	健康路
体育馆	文化路
朝阳路	东门
火车站	东门

第一块

201	火车站
建设路	市政府
少年宫	健康路
体育馆	文化路
朝阳路	东门
火车站	东门

第二块

二、操作题

1、

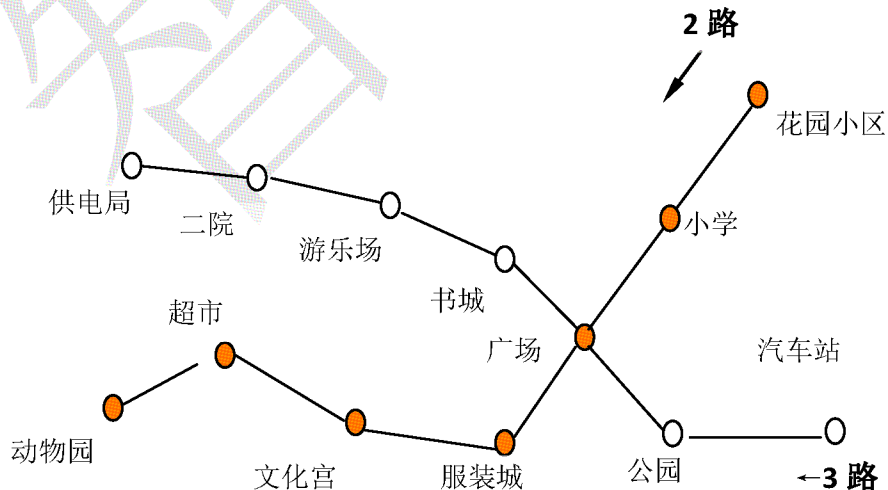
○						☆
△						□

- (1) ○先向南移 5 格，再向东北移 3 格。
- (2) △先向东移 2 格，再向北移 1 格，最后再向东北移 2 格。
- (3) □先向西移 2 格，再向北移 4 格。
- (4) ☆先向西南移 1 格，再向西移 2 格。
- (5) 观察这四个图形移动后所在的格子，完成填空。

○在☆的（ ）面，在□的（ ）面。

△在○的（ ）面，在□的（ ）面。

2、



- (1) 2 路车从（ ）开往（ ）。

3 路车从 () 开往 ()

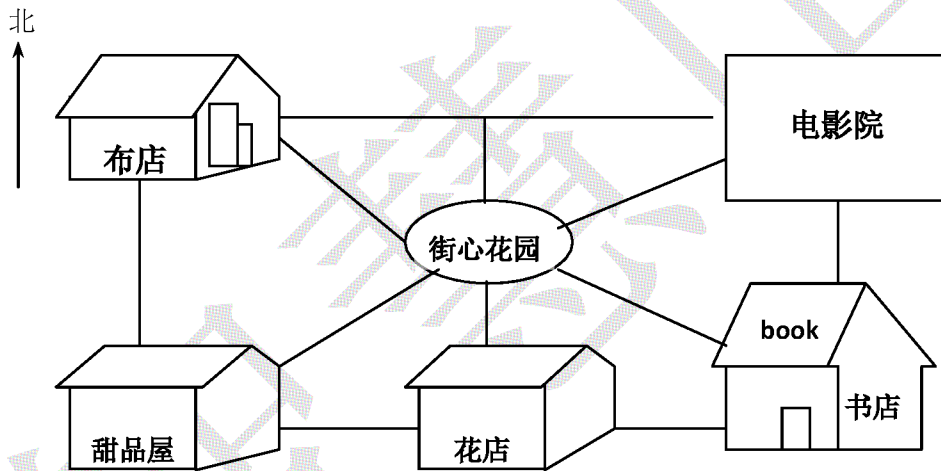
(2) 小明从汽车站出发到书城, 应乘 () 路车, 乘 () 站。

(3) 小亮从文化宫出发到游乐场, 应先乘 () 路车到 () 站下车, 再乘 () 路车到游乐场。

(4) 从花园小区到公园可以怎样乘车? 提示: 仿照第 (3) 题写。

三、看路线图填空。

红红从甜品屋出发到电影院, 她可以有下面几种走法。请把红红的行走路线填写完整。



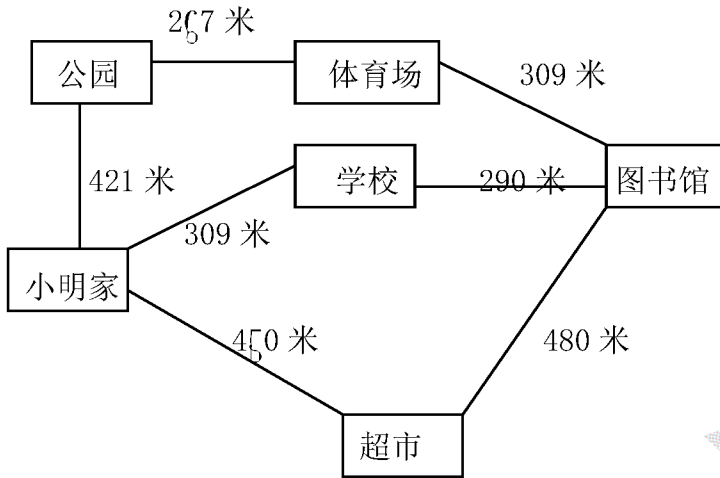
(1) 从甜品屋出发, 向北走到 (), 再向 () 走到电影院。

(2) 从甜品屋出发, 向 () 走到街心花园, 再向 () 走到电影院。

(3) 从甜品屋出发, 向 () 走到花店, 再向 () 走到书店, 再向 () 走到电影院。

(4) 红红从电影院出来, 打算把所有的地方都逛一下。想一想, 怎么走才能不重复? 请设计一个方案。

四、仔细观察线路图，按要求解决问题。



- (1) 学校在公园的 () 面，在小明家的 () 面。
- (2) 图书馆的 () 面是体育场，图书馆在超市的 () 面。
- (3) 从小明家经过学校到图书馆大约 () 米。
- (4) 请你算一算小明家到图书馆经过学校和经过超市的路分别长多少米？
- (5) 请你算一算小明家到图书馆经过公园的那条路长多少米？

五、思维延伸

- 1、如果 $\star = \bullet\bullet\bullet\bullet$ ， $\blacksquare = \star\star\star$ 。那么 $\blacksquare =$ () 个 \bullet 。
- 2、有一口井高 8 米，一只小蜗牛白天爬 3 米，晚上滑下来 2 米，这只蜗牛第 () 天能爬出这口井。