

## 【苏教版单元测试系列试卷】

二年级数学下册第一单元

智慧山育儿微信公众号



扫描微信扫描二维码关注公众号可持续获取小学阶段的学习资料和老师课程

## 苏教版二年级数学下册第一单元测验试题

|    |   |   |   |   |   |   |   |   |   |    |
|----|---|---|---|---|---|---|---|---|---|----|
| 题号 | 一 | 二 | 三 | 四 | 五 | 六 | 七 | 八 | 九 | 总分 |
| 分数 |   |   |   |   |   |   |   |   |   |    |

### 一、你能在 ( ) 里填上合适的数吗？

1. 先圈一圈，再填空。



11 只虾，每 5 只排一队，能排成 ( ) 队，还剩 ( ) 只。

$$11 \div 5 = \square \text{ (队)} \cdots \cdots \square \text{ (只)}$$

2.



15 只雪糕，平均分给 7 个小朋友，每个小朋友分得 ( ) 只，还剩 ( ) 只。

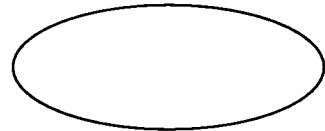
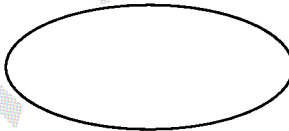
$$15 \div 7 = \square \text{ (只)} \cdots \cdots \square \text{ (只)}$$

### 二、按要求分类。

28 24 36 14 20  
49 16 21 63 36

被 4 除不带余数的

被 7 除不带余数的



### 三、在 ( ) 里填上正确的数。

$$(\quad) \div (\quad) = (\quad) \div (\quad) = (\quad) \div (\quad) = 6$$

$$\square \div 7 = 3 \cdots \cdots \triangle, \square \text{ 可以填的数是 } (\quad) \text{ 。$$

### 四、用竖式计算下面各题。

$$50 \div 6 =$$

$$37 \div 8 =$$

$$39 \div 4 =$$

$$73 \div 9 =$$

$46 \div 9 =$

$27 \div 5 =$

$33 \div 6 =$

$29 \div 7 =$

### 五. 填上合适的数。

1. 在算式  $\bigcirc \div \triangle = \square \dots 5$  中, 除数  $\triangle$  最小应该是 ( )。

2.  $\square \div 3 = 6 \dots \square$        $39 \div \square = \square \dots 5$

3. 请填出不同的算式。

$\square \div \square = 6 \dots 2$

$\square \div \square = 6 \dots 2$

$\square \div \square = 6 \dots 2$

$\square \div \square = 6 \dots 2$

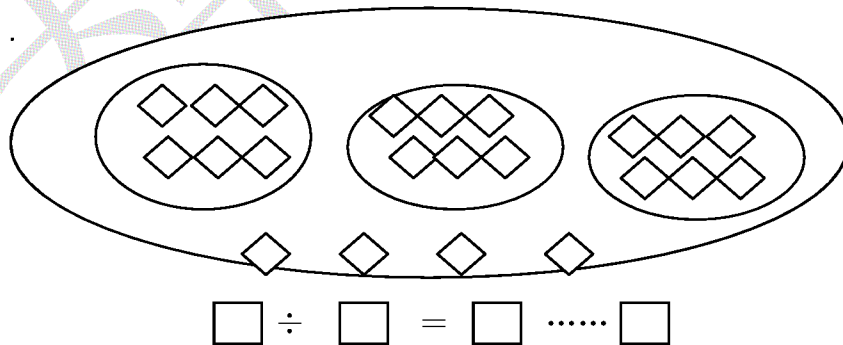
4. 学校买了 43 盆花, 至少拿出 ( ) 盆后, 正好平均分给 8 个班。

5. 商店门口挂了一排彩色灯泡, 按照一红二蓝三黄的顺序排列, 第 16 只灯泡是 ( ) 颜色, 第 24 只是 ( ) 颜色。

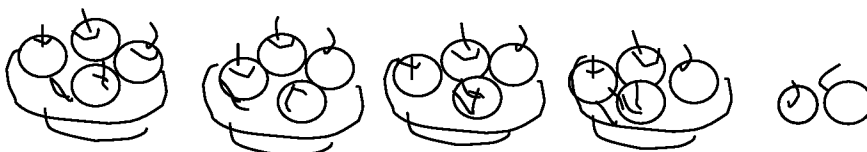
6. 有 48 个梨, 每 7 个装一大盘, 剩下的每 2 个装一小盘, 要装 ( ) 大盘 ( ) 小盘。

### 六. 看图填空、列式计算。

(1).



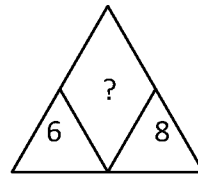
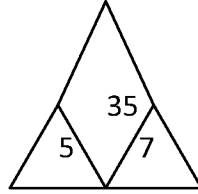
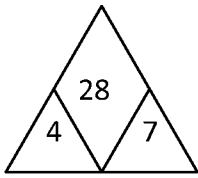
(2).



$$\square \times \square (\text{个}) + \square = \square (\text{个})$$

$$\square \div \square = \square (\text{盘}) \cdots \cdots \square (\text{个})$$

2. ? 是 ( )。



3. 怎么样坐船?

一共有 24 人, 每条大船坐 4 人, 每条小船坐 3 人。

(1) 哪种船的条数少? 在  里画  $\checkmark$

大船

小船

(2) 如果都坐大船要用  条。

$$\square \bigcirc \square = \square$$

## 七、解决问题。

1. 每排有 6 个鸡蛋, 摆了四排。

(1) 一共有多少个鸡蛋?

(2) 平均每天吃 6 个, 可以吃几天? 还剩多少个?

2. (1) 13 位同学, 平均坐到 3 辆小汽车上, 每辆车坐几人? 还剩几个人?

(2) 13 位同学, 每 6 人一辆小汽车, 应坐几辆小汽车? 还剩多少人?

3. 妈妈拿 70 元钱买一双鞋子和一条裤子, 一条裤子比一双鞋子贵 30 元。请问这条裤子多少元钱?