

【苏教版单元测试系列试卷】

二年级数学上册第四单元

智慧山育儿微信公众号



扫描微信扫描二维码关注公众号可持续获取小学阶段的学习资料和老师课程

苏教版二年级数学上册第四单元测验试题

题号	一	二	三	四	五	六	总分
分数							

一、直接写出得数。

$15 \div 3 =$

$6 \times 4 =$

$12 \div 4 =$

$6 \div 3 =$

$4 \times 2 =$

$5 \div 5 =$

$6 \times 3 =$

$10 \div 2 =$

$18 \div 6 =$

$16 \div 4 =$

$36 \div 6 =$

$8 \div 4 =$

二、在○里填上“>”“<”或“=”。

$25 \div 5 \bigcirc 4$

$36 \div 6 \bigcirc 2 \times 3$

$16 \div 4 \bigcirc 4$

$25 \div 5 \bigcirc 6$









$4 \div 4 \bigcirc 16$

$6 \div 3 \bigcirc 2$

$20 \div 5 \bigcirc 4$

$24 \div 6 \bigcirc 6$

三、小猫该吃哪条鱼?连一连。



四、在○里填上“+”“-”“×”或“÷”。

$5 \bigcirc 2 = 7$

$12 \bigcirc 4 = 3$

$5 \bigcirc 5 = 1$

$5 \bigcirc 3 = 12 \bigcirc 3$

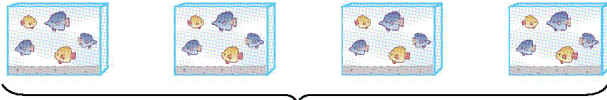
$6 = 24 \bigcirc 4$

$8 \bigcirc 4 = 2$

$4 \bigcirc 5 = 20$

$30 \bigcirc 6 = 5 \bigcirc 1$

五、看图写算式。



1.

20条

$$\square \div \square = \square$$

$$\square \div \square = \square$$

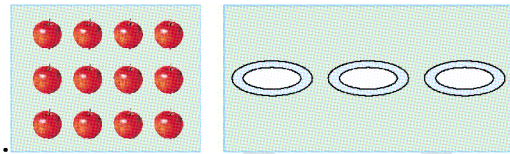
2.



$$\square \div \square = \square$$

$$\square \div \square = \square$$

3.



六、解决问题。

1. 一根绳子长 8 米,把它对折后剪成两段,每段长多少米?(6 分)

2. 乐乐付了 3 元钱买邮票,可以买几枚?




6 角

3. 笼子里有多少只兔?



笼子里一共有 20 个兔爪。

4. 提出一个数学问题, 并列式解答。



5. 李老师有一根长12米的铁丝, 剪掉了2米做一件教具, 如果用这根铁丝全部做成这样的教具, 可以做几件? 要剪几次? (8分)