

【苏教版单元测试系列试卷】

二年级数学上册第一单元

智慧山育儿微信公众号



扫描微信扫描二维码关注公众号可持续获取小学阶段的学习资料和老师课程

苏教版二年级数学上册第一单元测验试题

题号	一	二	三	四	五	六	七	总分
分数								

一、算一算。

$22+3=$ \quad $+15=$ \quad $+6=$ \quad $+17=$ \quad $+8=$ \quad

$96-16=$ \quad $-12=$ \quad $-23=$ \quad $-27=$ \quad $-9=$ \quad

二、填一填。

$78-24=(\quad)$ $56+(\quad)=98$ $65+13=(\quad)$

$44+23=(\quad)$ $79-(\quad)=34$ $54+(\quad)=65$

三、计算题。

1.算一算。(8分)

$98-20=$ $9+40=$ $80-17=$ $36+30=$

$8+54=$ $44+8=$ $35+30+5=$ $80-9+10=$

2.列竖式计算。(12分)

$58+27-12=$ $72-43+54=$ $25+36+17=$

$80-19-37=$

$53+28-39=$

$16+40-48=$

四、在○里填上“>”“<”或“=”。

$41 \bigcirc 18+22-20$

$91-8-60 \bigcirc 14$

$48-6-4 \bigcirc 10$

$36+36-17 \bigcirc 23$

$35-30+5 \bigcirc 53$

$65-17+10 \bigcirc 65-7$

五、看图做题。



(1)给第一行添上()个苹果就和第二行同样多。

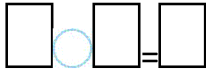
(2)从第二行的苹果中拿走()个就和第一行的同样多。

(3)从第二行中拿走()个苹果给第一行,两行的数量就同样多。


2.

(1)在横线上画☆,比△少3个。

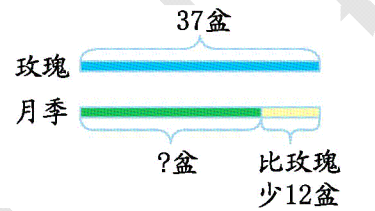
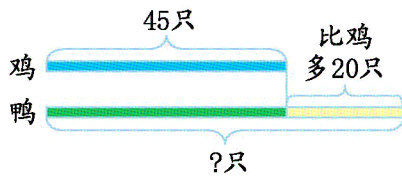




(2) 在横线上画 , 比 多 3 个。



六、看图列式计算。



七、解决问题。

1. 争星比赛。



我得的比小林多 18 颗。

我得了 25 颗星。



我得的比小红少 17 颗。



(1) 小红得了多少颗星？

(2)小军得了多少颗星?

2.二年级开联欢会,一班有 48 人,二班有 45 人,礼堂里有 80 把椅子,还差多少把椅子?

3.手工小组计划做 90 件手工艺品,上午做了 31 件,下午做了 36 件,还要再做多少件才能完成计划?

4.育才小学组织植树活动。下午植树的有多少人?



上午有两个小组植树,一组有25人,另一组有36人。下午走了18人。