

【苏教版单元测试系列试卷】

一年级数学下册第七单元

智慧山育儿微信公众号



扫描微信扫描二维码关注公众号可持续获取小学阶段的学习资料和老师课程

苏教版一年级数学下册第七单元测验试题

(满分 : 100 分 时间 : 60 分钟)

题号	一	二	三	四	五	六	七	总分
分数								











一、口算 (15 分)。

$40 - 5 =$ $3 + 4 - 6 =$ $4 + 11 - 7 =$ $12 - 6 =$ $15 - 8 + 2 =$

$90 - 60 =$ $2 + 3 + 14 =$ $32 - 20 =$ $36 + 5 =$ $6 + 6 - 2 =$

$4 + 9 =$ $15 - 8 + 30 =$ $27 + 8 =$ $12 - 8 + 7 =$ $18 - 9 + 10 =$

二、下面是某月 1~10 号的天气情况。请你统计出每种天气的天数。(9 分)

1	2	3	4	5	6	7	8	9	10
									

(1) 晴天有 () 天。

(2) 阴天有 () 天。

(3) 雨天有 () 天。

三、下面是阳光小学一 (5) 班上午的课程表。(14 分)

	一	二	三	四	五
1	语文	数学	语文	语文	数学
2	数学	数学	语文	数学	语文
3	体育	音乐	劳动	美术	写字
4	写字	美术	体育	音乐	劳动

(1) 语文和数学共多少节 ?

5 + () = () 节

(2) 体育比数学少多少节？

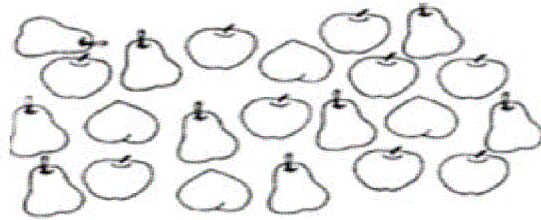
() - () = () 节

(3) 语文比美术多多少节？

() - () = () 节

(4) 自己再提一个问题，并解答。

四、统计下面三种水果的数量。(20分)



(1) 梨有()个，苹果有()个。桃有()个。

(2) 苹果比梨多()个，桃比梨少()只。

五、选一选，填一填。(20分)

种 类	连环画	故事书	科技数	其他书
人 数	18	12	8	4

(1) 喜欢()的人最多。

- A 连环画 B 故事书 C 科技书 D 其他书

(2) 喜欢()的人最少。

- A 连环画 B 故事书 C 科技书 D 其他书

(3) 喜欢故事书的比喜欢连环画的少()人。

(4) 喜欢连环画的和喜欢科技书的一共()人。

六、选一选。(10分)

小动物举行运动会，四种动物参加50米跑，它们的比赛如小表。

运动员	小猫	小狗	小熊	小兔
成绩	13秒	9秒	20秒	11秒

(1) ()跑得最快。

B 小狗 A 小猫 B 小狗 C 小熊

(2) 给它们排个名次：()。

A 小猫、小狗、小熊、小兔 B 小狗、小兔、小猫、小熊

C 小熊、小猫、小兔、小狗 D 小熊、小猫、小狗、小兔

七、你知道表中△、□、○、☆各表示多少棵吗？(12分)

	一班	二班	三班	四班
松树	25	△	50	23
柏树	31	40	□	4
杨树	41	19	9	○
一共	☆	72	75	69

(1) ()种得最多。

A 一班 B 二班 C 三班 D 四班

(2) ()种得最少。

A 一班 B 二班 C 三班 D 四班

(3) ☆ = ()、△ = ()、□ = ()、○ = ()。