

## 【苏教版单元测试系列试卷】

一年级数学下册第二单元

智慧山育儿微信公众号

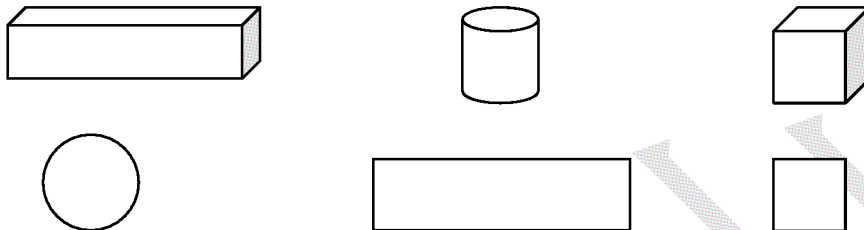


扫描微信扫描二维码关注公众号可持续获取小学阶段的学习资料和老师课程

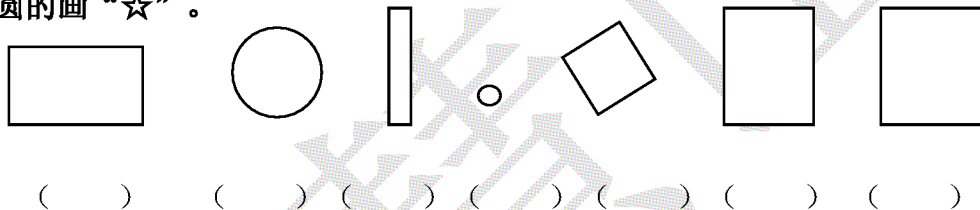
## 苏教版一年级数学下册第二单元测验试题

题号	一	二	三	四	五	六	七	八	九	总分
分数										


一、用下面的长方体、正方体和圆柱可以画出哪些图形？连一连。



二、请在下面图形中找一找，是长方形的打“√”，是正方形的画“△”，是圆的画“☆”。

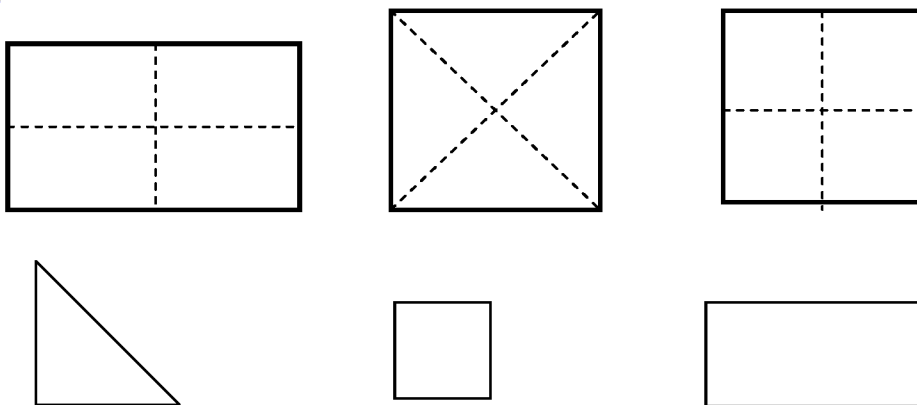


三、将下面的图形个数填在 (   ) 里。




长方形有 (   ) 个，  
 正方形有 (   ) 个，  
 圆形有 (   ) 个，  
 平行四边形有 (   ) 个，  
 三角形有 (   ) 个。

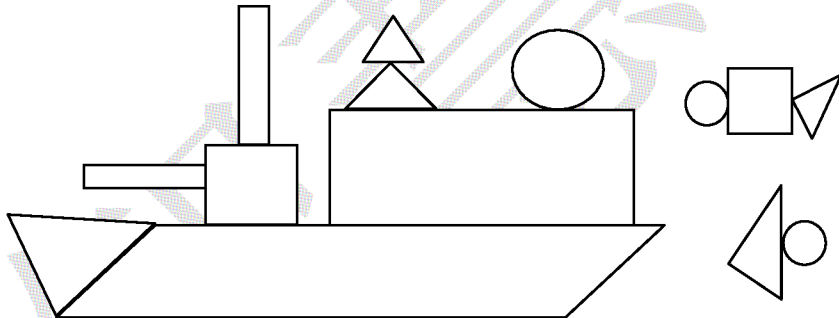
四、它们折出来是什么样子？连一连。



五、在方格纸上画出一个长方形，一个正方形，一个三角形和一个平行四边形。



六、把下面的各种图形涂上你喜欢的颜色（一种图形涂一种颜色）。

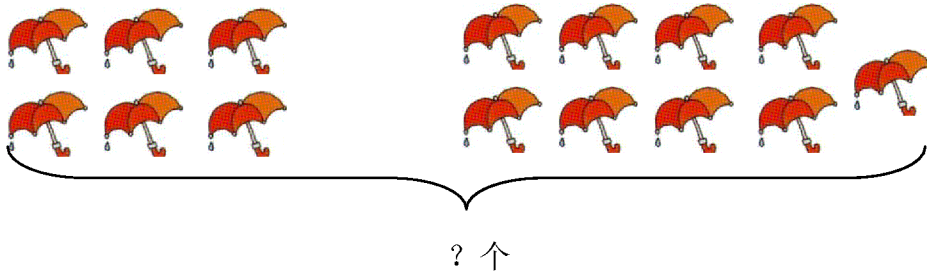


七、看图列式。








12 个

$$\square \bigcirc \square = \square$$



$$\square \bigcirc \square = \square$$

### 八、走进生活。

1. 妈妈买了 13 个 , 5 个 , 再买几个 ,  就和  一样多了?

$$\square \bigcirc \square = \square$$

2. 汽车上有 17 个人, 到站下车 8 人, 车上还有多少人?

$$\square \bigcirc \square = \square$$

3. 树上有 7 只鸟, 又飞来 8 只, 现在有多少只?

$$\square \bigcirc \square = \square$$

4. 平平做了 13 朵花红花和黄花, 其中红花有 10 朵, 黄花有几朵?

$$\square \bigcirc \square = \square$$

5. 一共有 12 个西瓜, 卖掉一些后还剩 5 个, 已经卖掉了多少个?

$$\square \bigcirc \square = \square$$