

## 【苏教版期中测试试卷】

一年级数学上册

(含A、B卷)

智慧大当家微信公众号



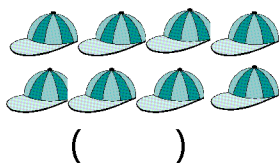


扫描微信扫描二维码关注公众号可持续获取小学阶段的学习资料和课程

## 苏教版小学数学一年级上册期中复习题 (A 卷)

题号	一	二	三	四	五	六	附加	总分
分数								

学号:


### 一、 看图写数



### 二、 看图填一填

班级:

- 1、★的上面是(     ), 下面是(     )。
- 2、★的左边是(     ), 右边是(     )。
- 3、○的上面有(     )和(     ), 左边有(     )和(     )。
- 4、△在(     )的左边, 在(     )的右边。
- 5、□在(     )的上面, 在(     )的下面。



姓名:



- 6、从右边起, 第(     )个是  从左边起, 第(     )个是  。

- 7、 在  的(     )边。

8、从右边起， 是第 ( ) 个。

9、填数

( ) , 1 , ( ) , 3。

5 , ( ) , ( ) , 2。

6 , ( ) , ( ) , 9 , 10。

4 , ( ) , ( ) , 1 , ( ) 。

10、填一填

(1) 长方体、正方体都有 ( ) 个面。(4, 6)

(2) 正方体的每个面都是 ( )。(正方形, 长方形)

(3) 球上 ( ) 平平的面。(有, 没有)

(4) 长方体上 ( ) 正方形面。(可能有, 没有)

三、在 ( ) 里填上适当的数

$7 + ( ) = 10$        $( ) + 2 = 8$        $( ) = 2 + 8$

$( ) + 4 = 10$        $1 + ( ) = 10$        $6 - ( ) = 2$

$( ) + 5 = 8$        $4 + ( ) = 7$        $( ) - 4 = 5$

四、在  $\bigcirc$  里填上 “>” “<” “或” “=”

$6 \bigcirc 8$      $7 \bigcirc 7$      $2 \bigcirc 0$      $10 \bigcirc 0$




$8 \bigcirc 3 \quad 5 \bigcirc 2 \quad 0 \bigcirc 8 \quad 9 \bigcirc 6$

$6 \bigcirc 5 \quad 0 \bigcirc 1 \quad 6 \bigcirc 6 \quad 3 \bigcirc 7$

$10 \bigcirc 8 \quad 7 \bigcirc 8 \quad 4 \bigcirc 6 \quad 8 \bigcirc 10$

### 五、解决问题

1、有 9 个萝卜，分给 2 只小兔，有几种分法？（每只小兔至少分 1 个）（7分）

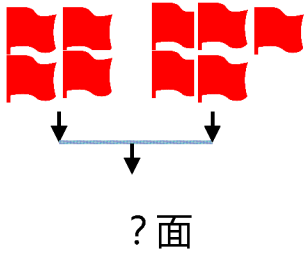
2、小明有 2 支 ，又买来 6 支 ，小明现在一共有多少支 ？（4分）

$$\square \bigcirc \square = \square$$

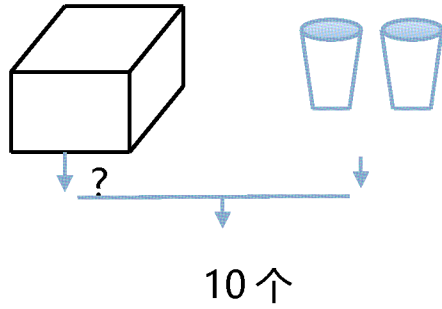
3、9 个小朋友分成两组玩游戏，你知道有几种分法吗？（每组至少有 1 人）分一分，写一写。（6分）

### 六、看图列式计算

1、

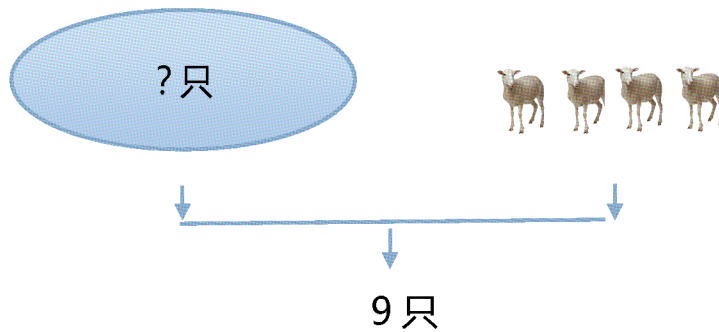


$$\square \bigcirc \square = \square$$



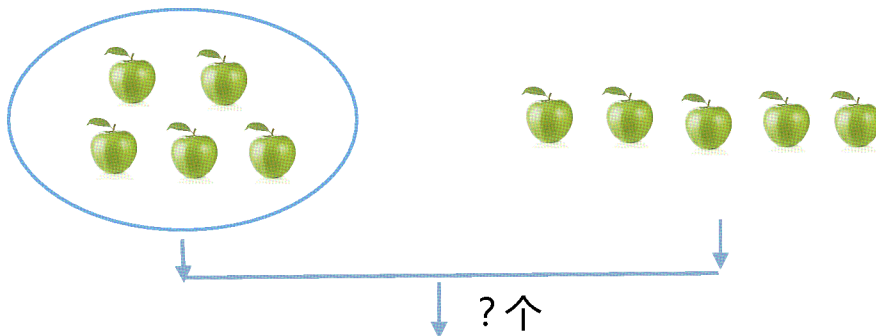
$$\square \bigcirc \square = \square$$

2、



$$\square \bigcirc \square = \square$$

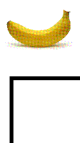



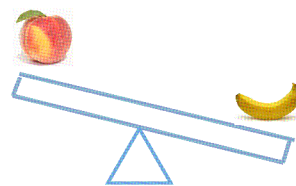


3、



$$\square \bigcirc \square = \square$$

### 七、附加题

1、按由轻到重的顺序在  里标上序号。



## 苏教版小学数学一年级上册期中复习题 (B卷)

题号	一	二	三	四	五	六	附加	总分
分数								

学号:

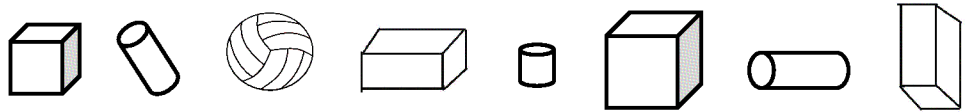
### 一、看图写数




班级:

### 二、填空。

#### 1、填一填



(1) 上面共有 ( ) 个物体,  有 ( ) 个,

 有 ( ) 个,  有 ( ) 个,  有 ( ) 个。

其中, ( ) 的个数最多, ( ) 的个数最少, ( ) 和 ( ) 的个数相同。

(2) 从左边起, 第 3 个是 ( ); 从右边起, 第二个是 ( )。

姓名:

2、6 前面一个数是 (     ), 后面一个数是 (     ); 8 和 10 中间的一个数是 (     )。

3、在 2, 0, 7, 9, 6, 4 中, 一共有 (     ) 个数, 这些数中最大的数是 (     ), 最小的数是 (     ), 从左数第三个是 (     ), 从右数第 3 个是 (     ), 把这些数从小到大排序是 (     )。

### 三、计算

在 (     ) 里填上适当的数。

$$5 + (     ) = 10 \quad 7 + (     ) = 7 \quad 3 + (     ) = 5 \quad 9 - (     ) = 5$$

$$1 + (     ) = 6 \quad 4 + (     ) = 9 \quad (     ) + 4 = 8 \quad (     ) - 10 = 0$$

$$1 + 7 = 2 + 3 + (     ) = 10 - (     ) \quad 6 + 3 = 10 - (     ) = 2 + (     )$$

### 四、比一比

在  $\bigcirc$  里填上 “>” “<” “或” “=”。

$$7 \bigcirc 9 - 1 \quad 7 + 2 \bigcirc 10 \quad 0 \bigcirc 10 - 10 \quad 8 - 3 \bigcirc 4$$

$$9 - 1 \bigcirc 3 + 6 \quad 1 + 8 \bigcirc 4 + 5 \quad 5 + 2 \bigcirc 9 - 2 \quad 6 - 4 \bigcirc 5 + 3$$

$$10 - 3 - 6 \bigcirc 9 - 7 + 3 \quad 8 + 2 - 5 \bigcirc 7 + 3 - 5 \quad 5 + 5 - 2 \bigcirc 2 + 7 - 3$$


### 五、解决问题

1、小白兔采了 10 个蘑菇, 小灰兔采了 3 个蘑菇。问小灰兔再采多少个蘑菇, 它们两个的蘑菇就一样多?



2、小朋友们排队参观科技馆，从左往右数，乐乐站在第3个；从右往左数，他排在第8个。一共有多少小朋友？

六、看图列式计算。

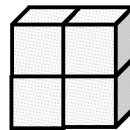
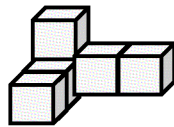


$$\square + \square = \square$$

$$\square - \square = \square$$

$$\square + \square = \square$$

$$\square - \square = \square$$



$$\square + \square = \square$$

$$\square - \square = \square$$

$$\square + \square = \square$$

$$\square - \square = \square$$

七、附加题

猜猜看

- 1、 飞飞比小红大3岁；
- 2、 芳芳比飞飞小1岁；

( ) 最大，( ) 最小。