

【人教版单元测试系列试卷】

四年级数学下册第七、八单元

智慧山育儿微信公众号



扫描微信扫描二维码关注公众号可持续获取小学阶段的学习资料和老师课程

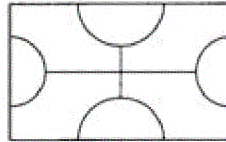
人教版四年级数学下册第七、八单元测验试题

(满分 : 100 分 时间 : 90 分钟)


题号	一	二	三	四	五	六	七	总分
分数								

一、填空 (共 15 分 , 5 分一个)

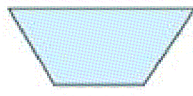
1. 如图是一种常见的图案, 这个图案有 () 条对称轴, 请在图上画出对称轴。



2. 下列图形中是轴对称图形的在括号里画“√”。



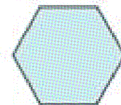
()



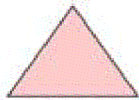
()



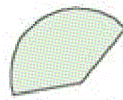
()




()



()



()



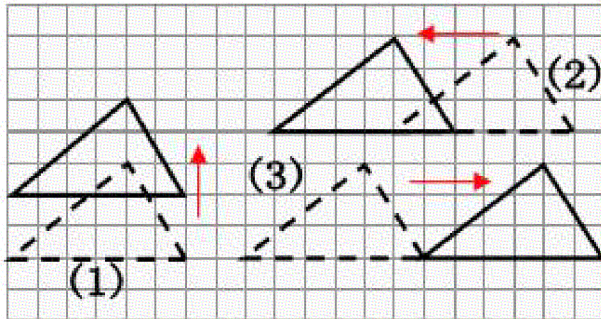
()



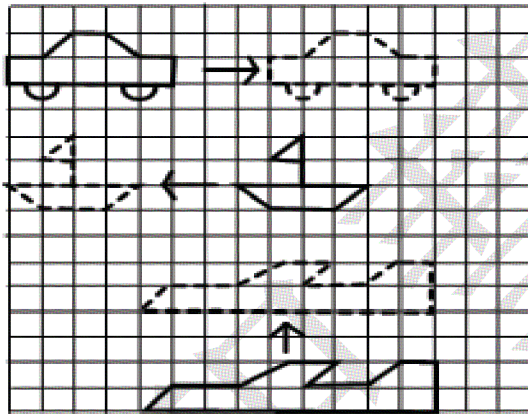
()

3. 等边三角形有 () 条对称轴, 等腰三角形有 () 条对称轴, 等腰梯形有 () 条对称轴。

4. 图形(1)向()平移了()格;图形(2)向()平移了()格;图形(3)向()平移了()格。



5. 小汽车向()平移了()格;小船向()平移了()格;小飞机向()平移了()格。

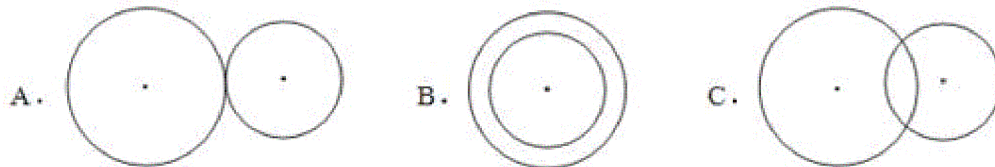


二、选择 (15分, 5分一个)

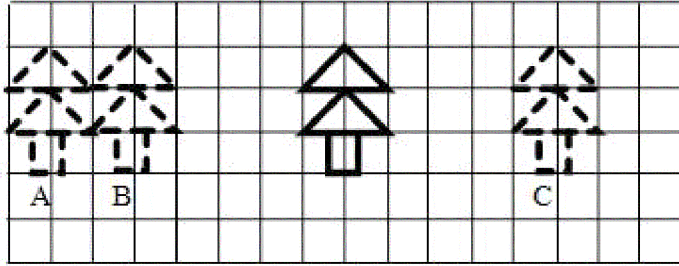
1. 下列图形中, 对称轴最多的是()。

- A. 正方形 B. 圆 C. 长方形

2. 要使大小两个圆有无数条对称轴, 应采用第()种画法。




3. 把图形向左平移 5 格后得到()图形。



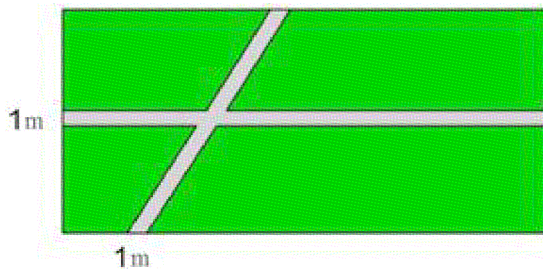
4. 下列说法中正确的是 ()。

- A. 一个图形经过平移后，与原图形成轴对称
- B. 如果两个图形成轴对称，那么一个图形可由另一个图形经过平移变换得到
- C. 图形的平移由平移的方向和距离决定


5. 如图，大矩形的长是 10 厘米，宽是 8 厘米，阴影的宽为 2 厘米，则空白部分的面积是 ()。



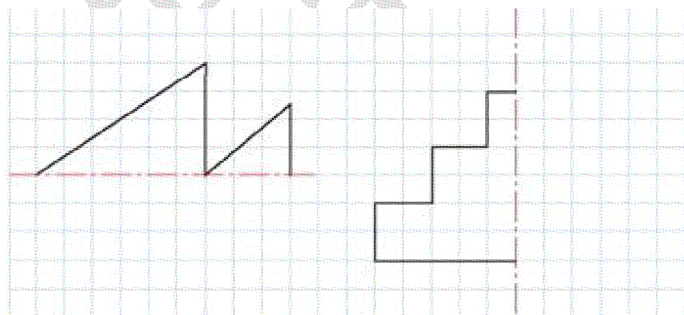
三、在一个长 30 m，宽 14 m 的长方形草坪上有两条相交的小路，那么草坪的面积是多少平方米？(14 分)




四、图中的图形都是轴对称图形，请你画出它们的对称轴。（14分）



五、画出下面图形的对称轴，使得它们是轴对称图形。（13分）



六、分别画出将□向下平移4格，向左平移8格后得到的图形（14分）



七、把图形向右平移7格后得的图形涂上颜色（15分）

