

## 【人教版单元测试系列试卷】

三年级数学下册第三单元

智慧山育儿微信公众号



扫描微信扫描二维码关注公众号可持续获取小学阶段的学习资料和课程

## 人教版三年级数学下册第三单元测验试题

题号	一	二	三	四	五	六	七	八		总分
分数										

一、下面是四(1)班同学1分钟仰卧起坐成绩统计表。

男生1分钟仰卧起坐成绩统计表

成绩/个	30以下	30~35	36~40	40以上
人数	4	7	8	1

女生1分钟仰卧起坐成绩统计表

成绩/个	30以下	30~35	36~40	40以上
人数	7	8	4	1

请你把上面两个统计表合并成一个统计表。

四(1)班同学1分钟仰卧起坐成绩统计表

成绩/个 人数 性别				

二、将下面的两张表格用一张表格表示出来。

图书种类	文艺书	故事书	科技书	连环画
一年级	10本	20本	10本	8本

图书种类	文艺书	故事书	科技书	连环画
二年级	8本	16本	9本	23本

图书类别 本数 年级	文艺书	故事书	科技书	连环画
	一年级			
二年级				

### 三、长大后最希望从事的工作。



我调查男生长大后最希望从事的工作情况。

工作	医生	科学家	教师	警察
人数	6	5	2	9

工作	医生	科学家	教师	警察
人数	7	3	8	2

我调查女生长大后最希望从事的工作情况。







能把你们调查的结果制成一张表吗？

工作 人数 性别	医生	科学家	教师	警察





- 长大后最希望从事( )的男生最多, 最希望从事( )的女生最多。
- 长大后最希望从事( )的同学最少, 共有( )人。
- 你还能发现什么?

### 四、下面是某地区 11 月份和 12 月份的天气情况统计表。请你将两个单式统计表合并成一个复式统计表, 并回答问题。


某地区 11 月份的天气情况统计表

天气				
天数	12	8	6	4

某地区 12 月份的天气情况统计表

天气				
天数	20	6	4	1

某地区 11 月份和 12 月份的天气情况统计表

天气 天数 月份				
	11 月份			
12 月份				

- 这两个月里( )天最多; 12 月份的晴天比 11 月份的晴天多( )天。
- 11 月份的阴天和雪天共有( )天; 12 月份的雪天比 11 月份的雪天少( )天。
- 11 月份有( )天, 12 月份有( )天, 12 月份比 11 月份多( )天。

五、四(2)班同学期末数学成绩如下。(单位: 分)

男生数学成绩						女生数学成绩						
93	97	86	78	99	67	94	89	73	96	63	99	87
89	91	96	79	97	98	95	93	88	94	99	92	87
77	94	95	88	93	87	91	92	87	97	64	85	
97	92	96	89									

对上面的数据进行整理, 并填写在下表中。

成绩/分 人数 性别	90 及 90 以上	80~89	70~79	60~69

六、小明和小刚练习 50 米蛙泳, 每次的成绩如下表, 根据统计表回答问题。(成绩: 秒)

姓名	次数			
	第一次	第二次	第三次	第四次
小明	132	130	128	134
小刚	105	110	107	106

- 关于上面两个人的蛙泳成绩，下面说法中正确的是( )。
  - 小刚每次的成绩都比前一次有所提高
  - 小刚每次的成绩都比小明好
- 小明第( )次的成绩最好，小刚第( )次的成绩最好。小明的最好成绩比小刚的最好成绩慢( )秒。
- 如果选一名队员去参加比赛，你选谁？为什么？

七、小浩和小涛进行五轮投篮比赛，下面是他们每轮投篮 50 次投中次数的统计表。请你将这两个统计表合并成一个复式统计表。

小浩投篮投中次数统计表

单位：次

第一轮	第二轮	第三轮	第四轮	第五轮
22	16	18	39	35

小涛投篮投中次数统计表

单位：次

第一轮	第二轮	第三轮	第四轮	第五轮
28	13	17	20	37

八、下面是阳光小学各活动小组学生人数情况。

航模小组			英语小组			美术小组		
性别	男生	女生	性别	男生	女生	性别	男生	女生
人数	46	27	人数	39	76	人数	27	23

把上面的 3 个单式统计表合并成一个复式统计表。