

【人教版单元测试系列试卷】

三年级数学下册第一单元

智慧山育儿微信公众号



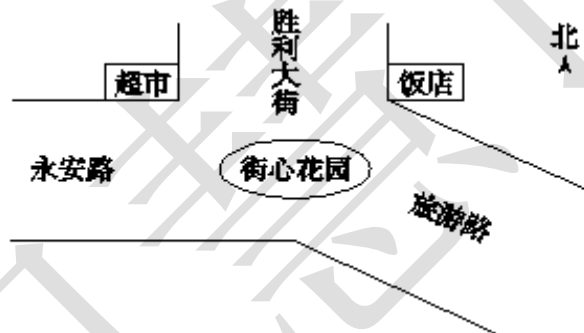
扫描微信扫描二维码关注公众号可持续获取小学阶段的学习资料和课程

人教版三年级数学下册第一单元测验试题

题号	一	二	三	四	五	六	七			总分
分数										

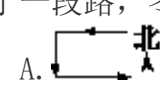
一、填一填。

1. 小丽面向北站着，她的右面是（ ），左面是（ ）。
2. 南风是指从（ ）面向（ ）面刮的风。
3. 李明早上去上学，刚开始面向着太阳走，到一个路口时他向左转，朝着（ ）面走，又到一个路口时他向右转，朝着（ ）面走到学校。
4. 如下图，超市在街心花园的（ ）方向；超市的（ ）面是饭店；从街心花园往（ ）方向走就是旅游路。

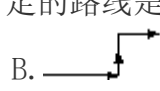


5. 小红家在小丽家的东北方向，小丽家在小红家的（ ）方向。
- ### 二、选一选。

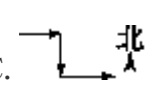
1. 学校大门朝南开，且大门正对着教学大楼，教学大楼在大门的（ ）。
 - A. 东面
 - B. 西面
 - C. 北面
 - D. 南面
2. 明明发现自己的影子在东面，那么现在太阳在（ ）。
 - A. 东面
 - B. 西面
 - C. 南面
 - D. 北面
3. 冬冬去小树林散步，他先向东走了一段路，又向南走了一段路，然后又向东走了一段路，冬冬行走的路线是（ ）。



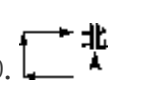
A.



B.

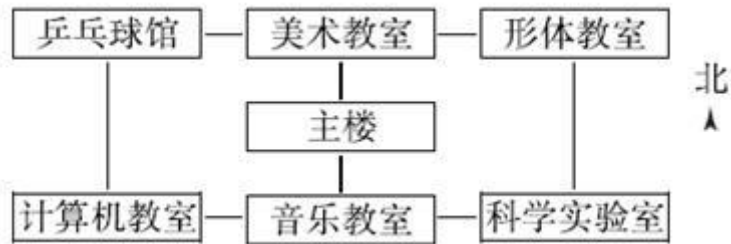


C.



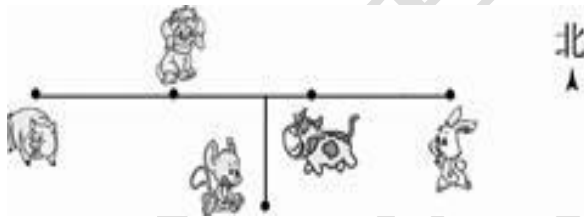
D.
4. 小英座位的西南方向是李明的座位，那么小英坐在李明的（ ）方向。
 - A. 东南
 - B. 西北
 - C. 东北
 - D. 西南

三、看图判断。

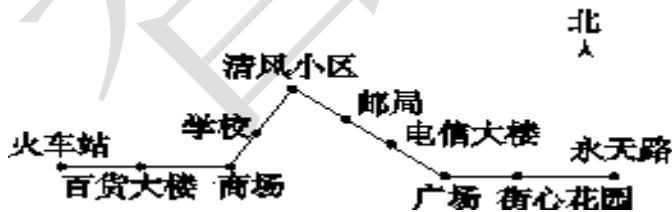


1. 科学实验室在形体教室的南面。 ()
2. 美术教室在乒乓球馆的西面。 ()
3. 音乐教室在主楼的北面。 ()
4. 计算机教室在主楼的西面。 ()
5. 乒乓球馆在主楼的东北方向。 ()

四、看图回答问题。



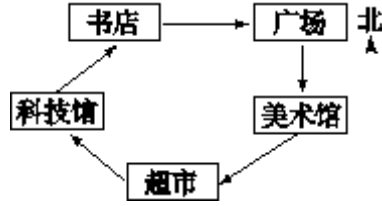
1.
 - (1) 小狗在小猪的 () 面，在小牛的 () 面。
 - (2) 如果小兔去找小老鼠玩，它要先向 () 走，再向 () 走。
 - (3) 小老鼠要走到小猪的位置，可以先向 () 走，再向 () 走。



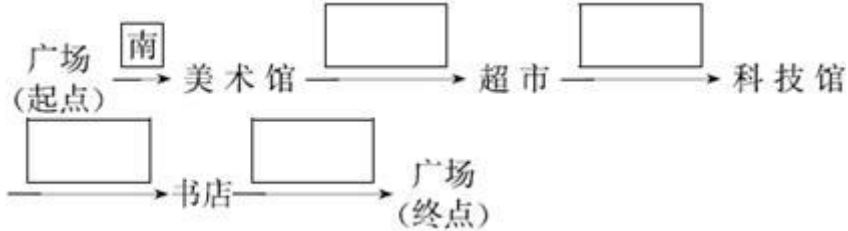
2.

某路公交车的行驶路线图(火车站→永天路):从火车站出发,先向()面行驶()站到商场,再向()方向行驶()站到清风小区,然后向()方向行驶()站到广场,最后向()面行驶()站到永天路。

五、按要求完成下面各题。




1. 小刚周日早上跑步的路线:



2. 人民公园在广场的西南方向, 在超市的北面, 请你用“△”标出人民公园的大体位置。

六、在正确答案前面的 里画“√”。



1. 小文在解放门, 他想去少年宫, 应该在哪个站牌下等车?

北面的站牌

南面的站牌

2. 小莉在解放门, 她想去中山路, 应该在哪个站牌下等车?

北面的站牌

南面的站牌

七、有五名同学, 放学时从学校回家, 小明先向北面走, 再向西面走回到了家; 小亮先向东面走, 再向东南方向走回到了家; 小敏先向南面走, 再向西南方向走, 然后向西面走回到了家; 小芳先向东面走, 再向东北方向走回到了家; 小涛先向北面走, 再向东面走回到了家。请你在 里标出他们各自的家。

