

【人教版单元测试系列试卷】

二年级数学下册第二单元

智慧山育儿微信公众号




扫描微信扫描二维码关注公众号可持续获取小学阶段的学习资料和课程

人教版二年级数学下册第二单元测验试题

题号	一	二	三	四	五	六	七			总分
分数										

一、看图填一填。



一共有()个苹果, 每()个分成一份, 一共分成了()份, 也就是()里面有()个(), 用除法算式表示为() \div ()=()。

二、分一分, 填一填。

1. 看下图填空




(1) 平均分给 2 个同学, 每个同学分()支。() \div ()=()

(2) 每个同学分 3 支, 能分给()个同学。() \div ()=()

2. 把()个茄子平均放在()个篮子里, 每个篮子放()个。

() \div ()=()



三、请帮小鸟把卡片送回家。



18 3=6

30 6=5

30 5=25

4 8=32

$$18 \begin{array}{|c|} \hline \square \\ \hline \end{array} 9=27$$

$$2 \begin{array}{|c|} \hline \square \\ \hline \end{array} 2=4$$

$$24 \begin{array}{|c|} \hline \square \\ \hline \end{array} 6=4$$

$$4 \begin{array}{|c|} \hline \square \\ \hline \end{array} 4=16$$

四、看图列式计算。



$$(\quad) \times (\quad) = (\quad)$$

$$(\quad) \div (\quad) = (\quad)$$

$$(\quad) \div (\quad) = (\quad)$$



$$(\quad) \times (\quad) = (\quad)$$

$$(\quad) \div (\quad) = (\quad)$$

$$(\quad) \div (\quad) = (\quad)$$

五、把下面的算式按得数从大到小的顺序排一排。

$$36 \div 6 \quad 18 \div 6 \quad 20 \div 4 \quad 3 \times 3 \quad 12 \div 3$$

_____ > _____ > _____ > _____ > _____



六、看谁算得快算得对。

$$6 \times 1 = (\quad) \quad 12 \div 4 = (\quad) \quad 30 \div 5 = (\quad) \quad 27 \div 3 = (\quad) \quad 4 \times 4 = (\quad)$$

$$5 \div 5 = (\quad) \quad 15 \div 5 = (\quad) \quad 18 \div 2 = (\quad) \quad 5 \times 2 = (\quad) \quad 20 \div 2 = (\quad)$$

七、解决问题。

1. 小刺猬运苹果。



(1) 这些苹果需要()只  才能一次都运走。

(2)如果把这些苹果平均分给 2 只 ，那么每只  分得()个。

2. 可以分成几组？



() ÷ () = () 组

3. 看完这本书需要多少天？



() ÷ () = () 天

4.



(1)4 人共采集 20 片树叶，平均每人采集多少片树叶？

写出算式：_____

(2)每人采集 4 朵花，4 人采集多少朵花？

写出算式：_____

(3)3 人捉了 18 只蝴蝶，平均每人捉了多少只蝴蝶？

写出算式：_____

(4)根据算式补充条件并提出问题。 $24 \div 4 = 6$ (名)

有 24 名同学采集标本，_____？