

【人教版期中测试试卷】

二年级数学上册

智慧大当家微信公众号



扫描微信扫描二维码关注公众号可持续获取小学阶段的学习资料和课程

人教版二年级数学上册期中测验试题

(满分:100分 时间:60分钟)

题号	一	二	三	四	五	六	七	八	总分
分数									

一、算一算。(8分)

$34+8=$

$49+5=$

$42+31=$

$6\times 6=$

$3\times 5=$

$4\times 6=$

$24+60-7=$

$2\times 6-6=$

二、填一填。(10分)

$1.3+3+3+3+3+3=3\times(\quad)$

$5+5=(\quad)\times 2$

2.测量物体的长度时,如果物体的左端对准尺子的刻度3,物体的右端对着刻度9,这个物体长()厘米。

3.一只手有5根手指,两只手有()根手指,两双手有()根手指。

4.26厘米+37厘米=()厘米 1米-45厘米=()厘米

5.两个乘数都是5,积是();两个加数都是4,和是()。

6.把 $6+6+6+6+6-10$ 改写成乘减算式是()。

三、把口诀补充完整。(8分)

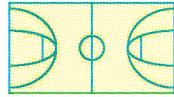
二三() 四()二十四 三()十八 三五()

()二得四 五五() ()四得八 四()二十

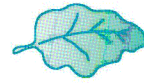
四、在括号里填上合适的长度单位。(6分)



旗杆高约 15()



篮球场长约 28()



叶子长约 10()

五、列竖式计算。(24分)

$39+28=$

$83-56=$

$90-42=$

$74-18=$

$70-24-16=$

$28+36+19=$

$71-34+26=$

$64+17-25=$

六、画一画。(6分)

- 画一条比 8 厘米短 5 厘米的线段。

2. 分别以下面的点为顶点画直角。




七、看图列式计算。(10分)



$$\square \bigcirc \square = \square () \quad \square \bigcirc \square = \square ()$$

口诀: _____



$$\square \bigcirc \square = \square () \quad \square \bigcirc \square = \square ()$$

口诀: _____



$$\square \times \square \bigcirc \square = \square () \quad \square \times \square \bigcirc \square = \square ()$$

八、解决问题。(28分)

1. 领帽子。(6分)



2.(16分)



(1)玩具小汽车在特价期间,优惠了多少元?

(2)王老师买了6个文具盒和一个玩具熊,一共多少钱?

(3)乐乐买了一个书包和一个足球,付给售货员50元,应找回多少钱?

3.二(1)班有男生19人,女生24人。一共有35个苹果,如果每人分

一个苹果,有多少人分不到苹果?(6分)