

【人教版单元测试系列试卷】

二年级数学上册第五单元

智慧山育儿微信公众号



扫描微信扫描二维码关注公众号可持续获取小学阶段的学习资料和老师课程


人教二年级数学上册第五单元测验试题

(满分：100分 时间：60分钟)

题号	一	二	三	四	五	总分
分数						

一、右面的图分别是谁看到的?连一连。

1.




2.

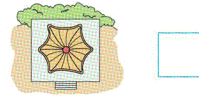



二、在括号里画“√”。

1. 小丽看到的是哪幅图?在下面的括号里画“√”。




2. 哪幅图是小鸟看到的?在□里画“√”。哪幅图是大象看到的?在□里画“○”。





三、想一想, 填一填。

1. 它们分别看到的是数字几?



2. 下面右边的这些图分别是谁看到的? 在括号里填上小朋友的名字。



()



()



()

四、谁说得对? 对的画“√”。



我看到了




我看到了



我看到了



五、下面四张照片是四个小朋友从不同的位置拍到的, 根据照片, 把他们的名字填在相应的括号里。



智慧山