

【人教版单元测试系列试卷】

二年级数学上册第一单元

智慧山育儿微信公众号



扫描微信扫描二维码关注公众号可持续获取小学阶段的学习资料和课程

人教版二年级数学上册第一单元测验试题

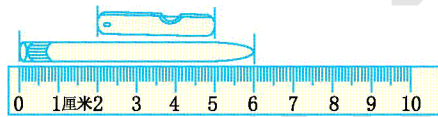
(满分: 100分 时间: 60分钟)

题号	一	二	三	四	五	六	总分
分数							

一、填一填。

1. 测量铅笔的长度用()作单位比较合适;测量床的长度用()作单位比较合适。

2.



油画棒长()厘米。

3. 2 米=()厘米

300 厘米=()米

30 厘米-6 厘米=()厘米

45 厘米+20 厘米=()厘米

4. 甜甜的身高是 90 厘米,再长()厘米,她的身高就是 1 米。

二、辨一辨。


1. 下面哪些图形是线段?在下面画“√”。



()



()



()




()

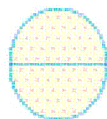


()

2. 下面图形中各有几条线段?



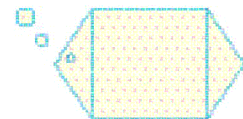
()



()



()



()

三、在括号里填上合适的长度单位。



亮亮身高 120()



教室长 10()



杯子高 10()



黄瓜长 20()



课桌高 80()



跳绳长大约 3()



床长 2()



楼高 30()

四、在○里填上“>”“<”或“=”。

1 米○90 厘米

2 米○200 厘米

100 厘米○1 米

20 厘米○1 米-80 厘米

50 厘米○5 米

1 米 80 厘米○2 米

五、做一做。

1. 量出下面线段的长度。

() 厘米



2. 画一条 5 厘米长的线段。

六、解决问题。

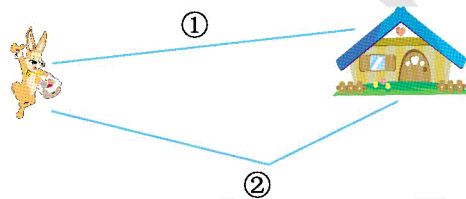
1. 你知道蚯蚓的身体有多长吗?

钻出地面的身体长
15厘米，地下还藏着4厘米。



2. 有一根绳子,剪去 30 厘米后,还剩 70 厘米。这根绳子原来长多少米?

3. 小兔子要去外婆家。




(1) 分别量出下面每条路的长度。

①号路长()厘米;②号路长()厘米。

(2) 小兔子走()号路近些。

4. 小动物赛跑。



(1) 蜗牛离终点还有多少厘米?

(2) 蚂蚁比小虫子多爬多少厘米?