

【人教版单元测试系列试卷】

一年级数学下册第六单元

智慧山育儿微信公众号



扫描微信扫描二维码关注公众号可持续获取小学阶段的学习资料和课程

人教版一年级数学下册第六单元测验试题

题号	一	二	三	四	五	六	总分
分数							

一、我会算。（共 22 分）

1.看谁算得又对又快。（10分）

$26+8=$

$95-30=$

$80-30=$

$89-7=$

$46+7=$

$41-2=$

$71-8=$

$53-6=$

$9+27=$

$67-20=$

2.计算。（12分）

$27+6+8=$

$47-6+40=$

$70+18-60=$

$81-7-30=$

$53-8-30=$

$40+37-9=$

二、在○里填上“>”“<”或“=”。（8分）

$45+4 \bigcirc 50$

$82-9 \bigcirc 61$

$93-7 \bigcirc 23$

$68+8 \bigcirc 75$


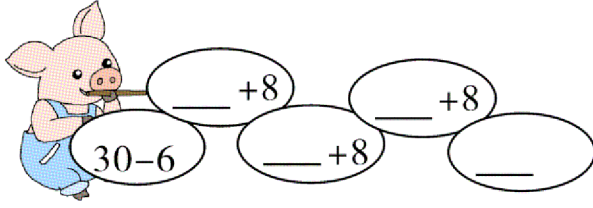
$32+9 \bigcirc 43-6$

$25+50 \bigcirc 95-9$


$76-6 \bigcirc 66+5$

$47+4 \bigcirc 51-2$

三、填一填。（8分）

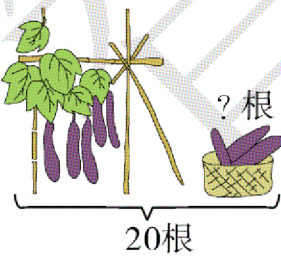


四、连一连，看看小猫能吃到哪条鱼。(12分)



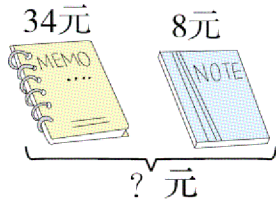
五、看图列式计算。(15分)

1.




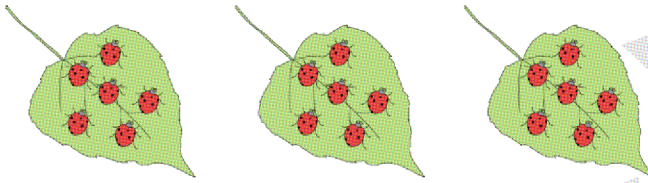
○ = (根)

2.



$$\square \bigcirc \square = \square \text{ (元)}$$

3. 一共有多少只  ?



$$\square \bigcirc \square \bigcirc \square = \square \text{ (只)}$$

六、解决问题。（共 35 分）

1. 还剩多少个松塔？（6分）



$$\square \bigcirc \square = \square \text{ (个)}$$


2. 再过 5 年，奶奶比小军大多少岁？（6分）



$$\square \bigcirc \square = \square \text{ (岁)}$$

答：5年后奶奶比小军大□岁。

3. 小兔运苹果。(6分)



小白兔运了3筐，每筐有9个，一共运了多少个苹果？

4. (7分)



摆3条小鱼，还剩多少根小棒？



5. 踢毽子。(10分)

我踢了48个。



小芳

我踢了30个。



小红

我踢了9个。



小刚

(1) 小芳比小红多踢了多少个？

(2) 小刚比小芳少踢了多少个？

