

【人教版单元测试系列试卷】

一年级数学下册第五单元

智慧山育儿微信公众号




扫描微信扫描二维码关注公众号可持续获取小学阶段的学习资料和老师课程

人教版一年级数学下册第五单元测验试题

题号	一	二	三	四	五	六	七	八	总分
分数									

一、连一连。

1. 把钱数和相应的人民币连起来。




100 元

2 元

1 元

2. 哪两样物品的价钱合起来是 1 元，请连起来。



7 角

6 角

8 角

4 角

3 角

2 角

二、填空题。

1. 人民币的单位有 ()、()、()。

2. 5 角=()分

80 分=()角

13分 = () 角 () 分 15角 = () 元 () 角

1角4分 = () 分 200分 = () 元

35角 = () 元 () 角 8元 = () 角

3. () 张 20 元的可以换一张 100 元的。

4. () 张 1 角的可以换一张 5 角的。

5. 3 张 1 角和 1 枚 5 分的是 () 角 () 分。

6. 在下面的 () 里填上合适的单位。

一个足球 35 () 一支铅笔 5 ()

一张白纸 2 () 一本故事书 7 () 8 ()

7. 给它们排排队



() < () < () < () < ()

三、换一换。

1. 一张  可以换 () 张  。

2. 一张  可以换 () 张  。

3. 一张  可以换 () 张  。

4. 一张  可以换 () 张  。

四、在○里填上“>”、“<”、“=”。

$1 \text{ 分} \bigcirc 1 \text{ 角}$

$1 \text{ 元} \bigcirc 1 \text{ 角}$

$7 \text{ 角} \bigcirc 65 \text{ 分}$

$80 \text{ 角} \bigcirc 8 \text{ 元}$

$105 \text{ 分} \bigcirc 1 \text{ 元}$

$9 \text{ 角} 9 \text{ 分} \bigcirc 1 \text{ 元}$

五、计算。


$5 \text{ 元} + 2 \text{ 元} = (\quad) \text{ 元}$

$2 \text{ 元} + 5 \text{ 角} = (\quad) \text{ 元} (\quad) \text{ 角}$

$4 \text{ 元} + 1 \text{ 元} 2 \text{ 角} = (\quad) \text{ 元} (\quad) \text{ 角}$

$6 \text{ 角} + 5 \text{ 角} = (\quad) \text{ 角} = (\quad) \text{ 元} (\quad) \text{ 角}$


六、完成下表。



买的物品	一共多少钱
 	
 	
 	

七、帮妈妈买东西。

妈妈给了 10 元钱让它去超市买水果。下面是每个水果的价钱：



6元

2元

1元

3元

小松鼠想四种水果都买，钱够吗？



八、解决问题。



2角



12元



5角



2元

(1) 买一支笔和一块橡皮一共要多少钱？

(2) 洋娃娃比哨子贵多少钱？

(3) 5元买1个哨子应找回多少钱？