

【人教版单元测试系列试卷】

一年级数学下册第四单元

智慧山育儿微信公众号


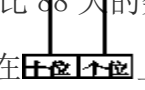



扫描微信扫描二维码关注公众号可持续获取小学阶段的学习资料和课程

人教版一年级数学下册第四单元测验试题

题号	一	二	三	四	五	六	七	八	九	总分
分数										

一、填空。

1. 36 里面有()个一。
2. 3 个一和 9 个十组成()。
3. 48 是由()个十和()个一组成的。
4. 一个数从右边起, 第一位是 5, 第二位是 3, 这个数是()。
5. 50 前面的一个数是(), 后面的一个数是()。
6. 比 91 小, 比 88 大的数是()和()。
7. 用 5 个  在  上摆数, 如果 5 个  全用上, 能摆出()个不同的数。其中最大的数是(), 最小的数是()。

二、选一选。

1. 有一个两位数, 它的十位上的数比 6 大, 个位上的数比 6 小, 这个数可能是()。
 ①57 ②75 ③77
2. 46 最接近下面哪个数()。
 ①30 ②40 ③50
3. 下面哪个算式的得数比 50 大()。
 ①52-7 ②3+47 ③43+9
4. 一个排球 25 元, 一个篮球比一个排球贵得多, 一个篮球可能是()元。
 ①15 元 ②21 元 ③58 元
5. 从 40 数到 50, 一共数了()个数。
 ①10 ②11 ③12

三、判断。(对的画“√”, 错的画“×”)

1. 33 中两个“3”的意义相同, 都表示 3 个一。()

2. 三十一写作 301。()
3. 个位上是 5，十位上是 2，这个数是 25。()
4. 63 比 59 大得多。()
5. 58 读作五十 8。()

四、看谁算得又对又快。

$25-5=$

$53-3=$

$30+7=$

$6+60=$

$84-4=$

$80+3=$



$40+9=$

$49-9=$

$88-8=$

$9+90=$

五、把下面的算式按得数从小到大排列。



_____ < _____ < _____ < _____

六、读出、写出横线上的数。

1. 如果每台空调在国家提倡的 26°C 的基础上调高 1°C ，每年可节电 二十二 () 千瓦时，相应减排二氧化碳 二十一 () 千克。
2. 用 11 瓦节能灯代替 60 瓦白炽灯，每天按照明 4 小时计算，1 个节能灯 1 年可节电 71 () 千瓦时，相应减排二氧化碳 68 () 千克。

七、猜一猜，填一填。

1. 谁吃的虫子最多画“○”，谁吃的虫子最少画“√”。

 吃了 7 只	 吃了 42 只	 吃了 55 只



2.

男孩的故事书可能是多少本？画“○”。

女孩的故事书可能是多少本？画“√”。

43	36	82

八、解决问题。

1. 有 46 人在操场上做游戏，其中跳绳的有 6 人。

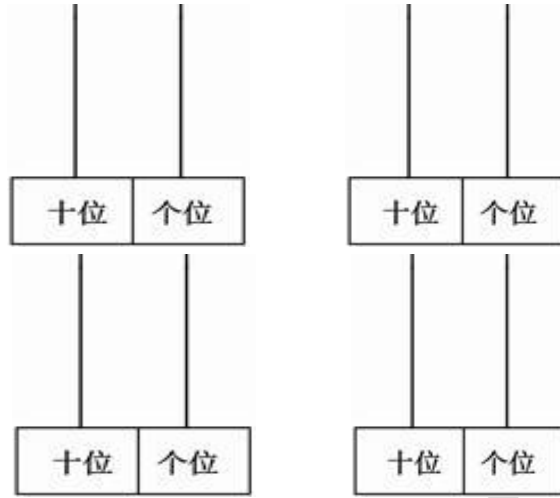


2. 有 20 颗珠子，每 6 颗珠子穿成一串，最多可以穿成()串，先圈一圈，画一画，再填空。



3 用 1、2、5 这三张数字卡片中的两张组成两位数，最大的数是多少？最小的数是多少？最小的数减去 7 是多少？

九、有 4 颗珠子，试着用它们表示出不同的数，画一画。



智慧山