

【人教版单元测试系列试卷】

一年级数学下册第三单元

智慧山育儿微信公众号

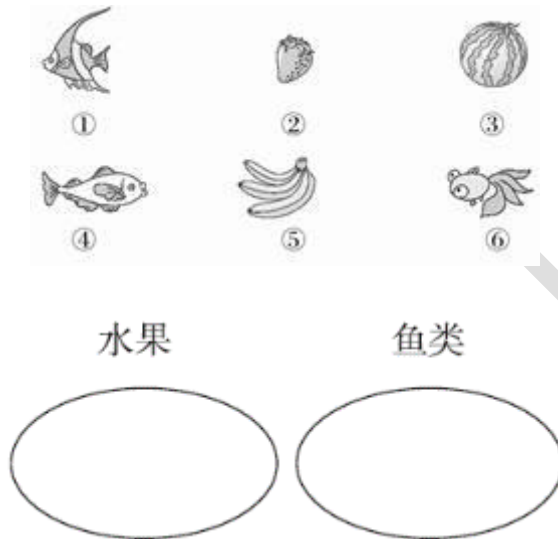


扫描微信扫描二维码关注公众号可持续获取小学阶段的学习资料和课程

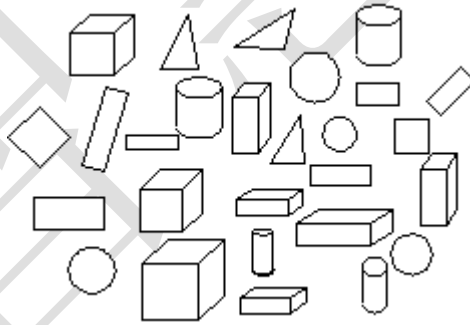
人教版一年级数学下册第三单元测验试题

题号	一	二	三	四	五	六	七			总分
分数										

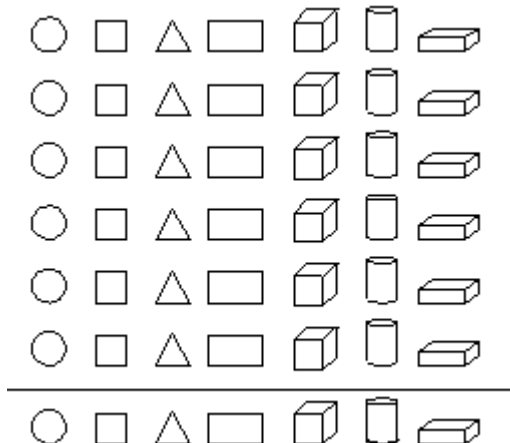
一、分一分（填序号）。



二、涂一涂，填一填。



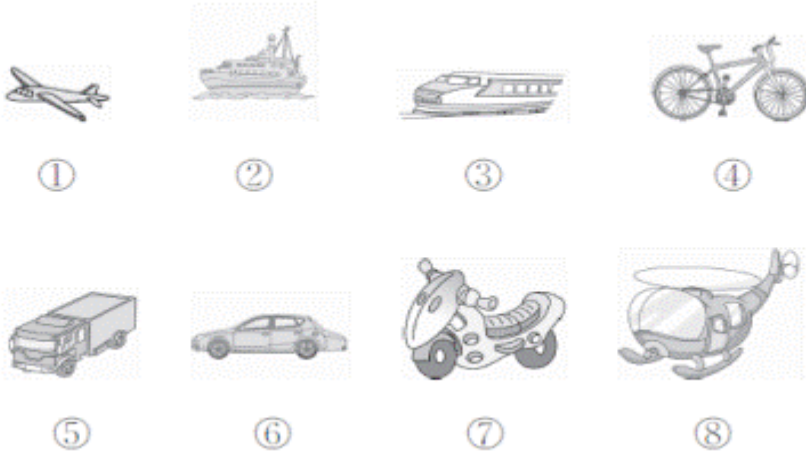
1. 按照图形种类涂一涂。



2. 填一填。

○有()个, □有()个, △有()个, 〇有()个, 立方体有()个, 手机有()个, 书有()个。

三、按要求解答。



1. 把同一类的序号填在下面的长方形框里。


天上飞的 水里航行的 陆地行驶的

--	--	--

2. 按照上面分类的结果填一填。

	天上飞的	水里航行的	陆地行驶的
个数			

四、按照动物的种类分组（填序号）。



丹顶鹤



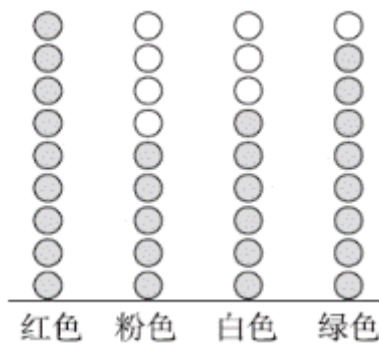
大天鹅



丹顶鹤和大天鹅都是
我国一级保护动物。



五、一(2)班同学喜欢各种颜色的人数如下图。



1. 根据上图填表。

	红色	粉色	白色	绿色
人数				

2. 根据上面的统计结果回答问题。

(1) 喜欢什么颜色的人数最多? _____

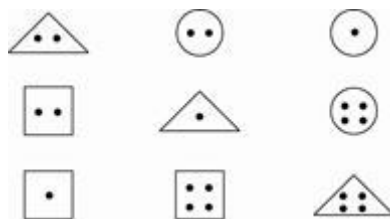
(2) 喜欢红色的和白色的一共有多少人? _____

(3) 喜欢绿色的比喜欢红色的少几人? _____

(4) 请你根据列出的算式提出一个问题。 _____

$$5 + 6 = 11(\text{人})$$

六、分一分，填一填。



分法一：

个数			

分法二：

个数			

七、看图回答问题。



1. 按性别分。

	男性	女性
人数		

2. 如果分成三组，可以怎样分？

个数			