

【人教版单元测试系列试卷】

一年级数学下册第一单元

智慧山育儿微信公众号

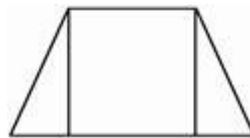
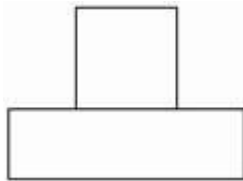
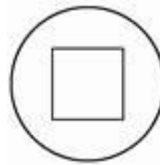


扫描微信扫描二维码关注公众号可持续获取小学阶段的学习资料和课程

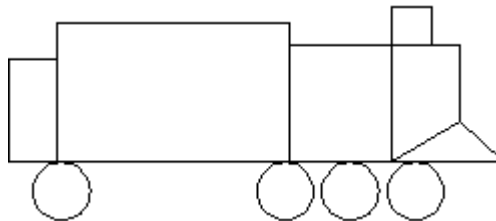
人教版一年级数学下册第一单元测验试题

题号	一	二	三	四	五	六	七	八	九	总分
分数										

一、把下面各图形中的正方形涂上红色，三角形涂上绿色，长方形涂上粉色，圆涂上蓝色。



二、数一数，填一填。



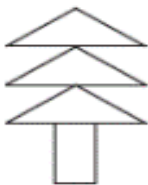
○有()个

△有()个

□有()个

□有()个

三、每幅图分别像什么？填一填。



()



()



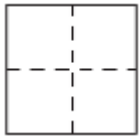
()


四、折一折，填一填。



1.


沿虚线能折出()个相同的()形。

2.  沿虚线能折出()个相同的()形。

3.  沿虚线能折出()个相同的()形。

五、选一选(填序号)。

①长方形 ②正方形 ③圆 ④三角形


1.  是()。

2.  是()。

3.  是()。

4.  是()。

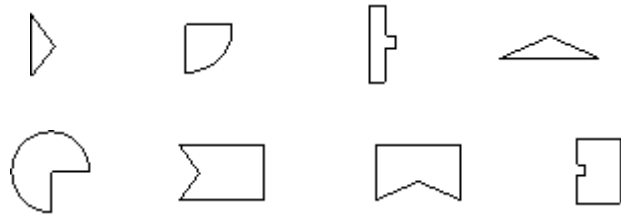
六、在正确说法的下面画“√”。

1. 
  ()

2. 
  ()



七、上面的图形分别是下面哪个图形上剪下来的？连一连。



八、在下面每个图形中画一条线段，使它成为符合要求的图形。

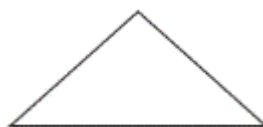
1. 两个相同的长方形。



2. 两个相同的平行四边形。



3. 两个相同的三角形。



4. 两个相同的长方形。



九、在点子图中画一个三角形和一个正方形。

