

【人教版期中测试试卷】

一年级数学上册

智慧大当家微信公众号



扫描微信扫描二维码关注公众号可持续获取小学阶段的学习资料和课程

人教版一年级数学上册期中测验试题

(满分：100分 时间：60分钟)

题号	一	二	三	四	五	六	总分
分数							

一、口算。(共12分,每题1分)。

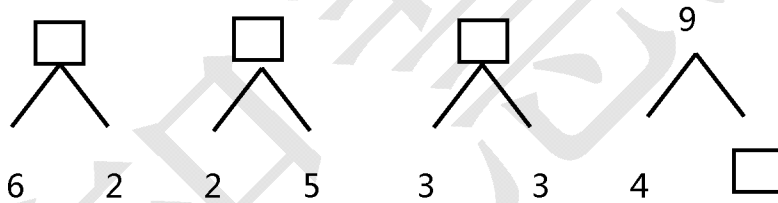
$8 - 3 =$ $2 + 5 =$ $3 - 1 =$ $5 - 5 =$

$1 + 4 =$ $9 - 0 =$ $4 + 5 =$ $6 + 2 =$

$0 + 4 =$ $9 - 8 =$ $6 - 3 =$ $3 - 2 =$

二、按要求填空。(共35分)

1. (共12分每空3分)




2. 按顺序填数(共6分,每空1分)。



	3		1	
--	---	--	---	--



	7		9	
--	---	--	---	--

3. 数一数(共5分,每空1分)。



(1) 一共有 () 只小动物,

(2) 从左数  排第 4,  排第 (),

(3)  前面有 () 只小动物,  后面有 () 只小动物。

(4) 从右边起圈出 3 只小动物。

4、在○里填上 <、> 或 = (共 6 分, 每空 1 分)。

$6 \bigcirc 9$

$8 - 0 \bigcirc 0$

$4 \bigcirc 2 + 1$

$7 \bigcirc 8$

$7 \bigcirc 1 + 6$

$7 + 2 \bigcirc 6$

5、排一排 (共 6 分, 每空 1 分)。

7

3

5

2

9

1

() > () > () > () > () > ()

三、比一比、填一填 (共 10 分)。

1、画一画。(共 6 分)

(1) 画○, 比☆多两个。



(2) 画△, 比😊少 3 个




2、比一比 (共 4 分)。

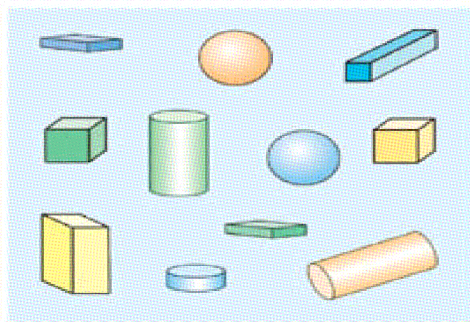
(1) 在多的后面画√。







(2) 在少的后面画√。


四、连线 (8分, 每题1分)。

2+3	8	7-5	6
4+5	7	9-3	2
2+6	9	8-4	3
9-2	5	6-3	4

五、数一数, 分一分。(共8分, 每空2分)。



	() 个
	() 个
	() 个
	() 个

六、看图写算式。(共27分, 除第3小题9分, 其余每小题6分)

1、

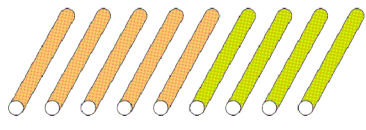
$$\square \bigcirc \square = \square$$

2、



$$\square \bigcirc \square = \square$$


3、看图写两个加法算式和两个减法算式。



□ ○ □ = □ □ ○ □ = □

□ ○ □ = □ □ ○ □ = □

4、



? 只

一共有7只，
跳走2只。

7 只

□ ○ □ = □ (只) 还剩几只?