

# 【人教版单元测试系列试卷】

## 一年级数学上册第六单元

智慧山育儿微信公众号




扫描微信扫描二维码关注公众号可持续获取小学阶段的学习资料和课程

# 人教版一年级数学上册第六单元测验试题

(满分：100分 时间：60分钟)

题号	一	二	三	四	五	六	总分
分数							

一、数一数,写一写。



二、写一写,比一比。



1.      ○           2.      ○     

三、算一算。(25分)


1. 比一比,算一算。

$$\begin{array}{ccccc}
 10+5= & 12-2= & 14-4= & 16-10= & 18-8= \\
 15-5= & 10+2= & 10+4= & 10+6= & 18-10=
 \end{array}$$

2. 直接写出得数。

$$\begin{array}{ccccc}
 13+2= & 14+5= & 16-3= & 14-2= & 17-5= \\
 19-10= & 14-1= & 15-10= & 16-6= & 12+7= \\
 8+2+6= & 5+5-4= & 15-5-4= & 11+5-6= & 14+5-8=
 \end{array}$$

#### 四、猜猜我的邻居是谁。



#### 五、看图列式计算。

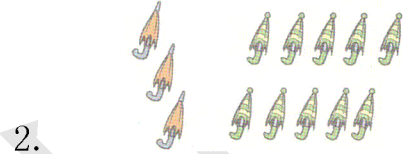


$10+2=\square$

$12-2=\square$



$12-10=\square$



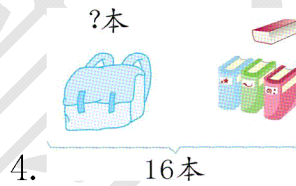
$3+10=\square$

$13-\square=\square$

$13-\square=\square$




$\square \bigcirc \square = \square \text{ (支)}$



$\square \bigcirc \square = \square \text{ (本)}$

#### 六、解决问题。

1. 小芳种了 13 株向日葵。



$\square \bigcirc \square = \square \text{ (个)}$

2. 爸爸原计划 5 月 14 日带小明去动物园参观。因为工作原因,爸爸推迟了 5

天,推迟后,你知道爸爸 5 月几日带小明去动物园参观吗?

3. 你能提出哪些数学问题?试着算一算。

