

【人教版单元测试系列试卷】

一年级数学上册第五单元

智慧山育儿微信公众号




扫描微信扫描二维码关注公众号可持续获取小学阶段的学习资料和老师课程


人教版一年级数学上册第五单元测验试题

(满分：100分 时间：60分钟)

题号	一	二	三	四	五	六	七	总分
分数								

一、夺红旗比赛。

$$8 \xrightarrow{-2} \square \xrightarrow{-2} \square \xrightarrow{+2} \square \xrightarrow{-3} \square \xrightarrow{+4} \square$$


$$9 \xrightarrow{-1} \square \xrightarrow{-7} \square \xrightarrow{+8} \square \xrightarrow{-5} \square \xrightarrow{+3} \square$$


二、你知道 的后面藏的是几吗？

$6 + \text{fish} = 9$

$10 - \text{fish} = 4$

$\text{fish} + 4 = 9$

$\text{fish} - 8 = 2$

$8 + \text{fish} = 10$

$7 - \text{fish} = 1$

$\text{fish} - 4 = 5$

$7 - \text{fish} = 2$

三、在○里填上“>”“<”或“=”。

$9 - 5 \bigcirc 3$

$4 + 6 - 5 \bigcirc 9$

$10 - 7 - 3 \bigcirc 1$

$8 + 2 - 3 \bigcirc 9$


$10 - 3 - 4 \bigcirc 6$

$9 - 0 \bigcirc 2 + 7$

$3 + 6 \bigcirc 10 - 1$

$10 - 7 + 1 \bigcirc 10$

四、填一填，画一画。



1. 上面一共有()个图形。

2. 把右边 3 个圈起来。把从左数第 7 个圈起来。

五、看图列出四个算式。




1.

$\square + \square = \square \quad \square - \square = \square$

$\square + \square = \square \quad \square - \square = \square$

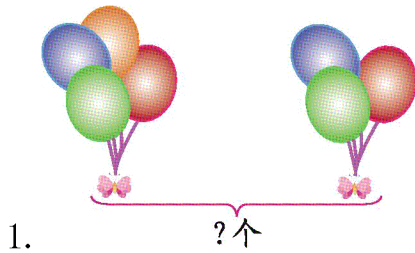
2.



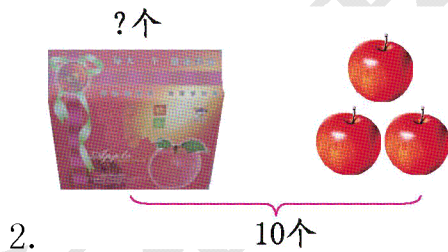
$$\square + \square = \square \quad \square - \square = \square$$

$$\square + \square = \square \quad \square - \square = \square$$

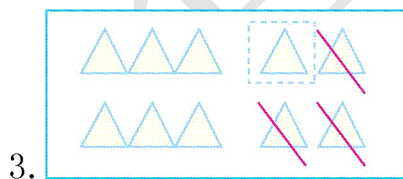
六、看图列式计算。




$$\square \bigcirc \square = \square \text{ (个)}$$



$$\square \bigcirc \square = \square \text{ (个)}$$




$$\square \bigcirc \square \bigcirc \square = \square \text{ (个)}$$



$$\square \bigcirc \square \bigcirc \square = \square \text{ (个)}$$

七、解决问题。

1. 汽车上原来有 9 人。现在汽车上有多少人？



2. 一共栽了几棵树？



3. 小红的右边有 3 人,左边有 4 人。这一排一共有多少人？

