

【人教版单元测试系列试卷】

一年级数学上册第一单元

智慧山育儿微信公众号



扫描微信扫描二维码关注公众号可持续获取小学阶段的学习资料和课程

人教版一年级数学上册第一单元测验试题

(满分：100分 时间：60分钟)

题号	一	二	三	四	五	六	七	八	总分
分数									

一、连一连。



1



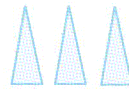
8




5



3



二、你知道  的后面藏的是几吗？

1. 4

5



7

2. 10



8

7



3.



4

5

4. 6

7



10

三、把同样多的部分用线圈起来。



1.



2.



四、先数一数,再写数。




()



()



()



()

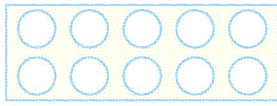


()

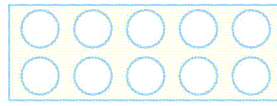


()

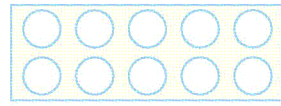
五、按照图下面的数,在“○”里涂上你喜欢的颜色。



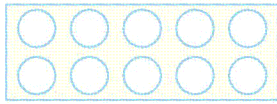
4



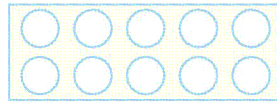
6



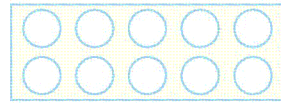
3



0



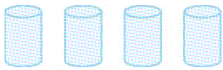
10



7

六、画一画。

1. 画○,要与△同样多。



2. 画△,比○多3个。

3. 在方框中画○,左边方框中的最少,右边方框中的最多。



七、数一数,有几个就圈几。

			
1 2 3	3 4 5	5 6 7	7 8 9

八、从1写到10。

