

【冀教版单元测试系列试卷】

五年级数学上册第一单元

智慧山育儿微信公众号



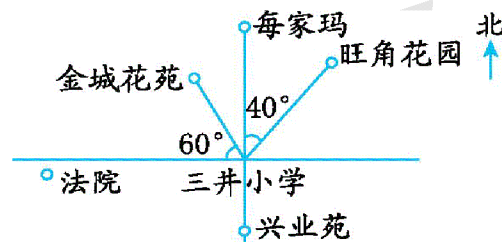
扫描微信扫描二维码关注公众号可持续获取小学阶段的学习资料和老师课程

冀教版五年级数学上册第一单元测验试题

(满分：100分 时间：90分钟)

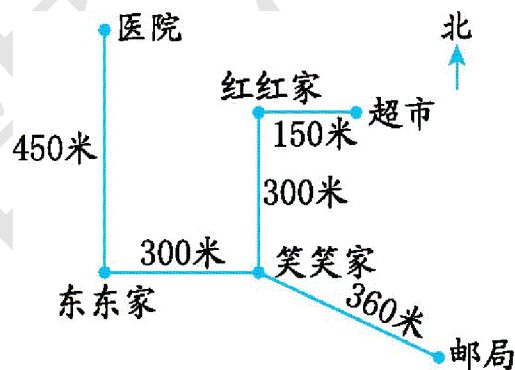
题号	一	二	三	四	五	六	七	八	总分
分数									

一、看图填空。(10分)



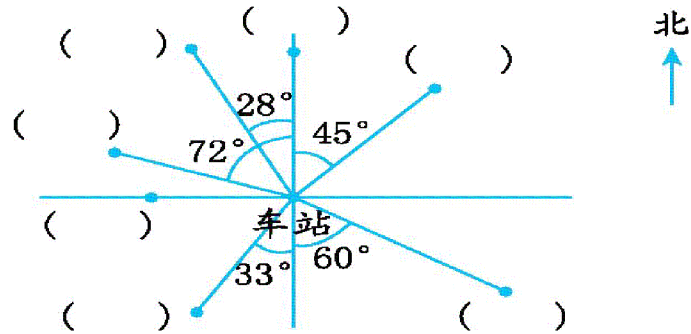
- 旺角花园在三井小学的()偏()($^{\circ}$)
- 金城花苑在三井小学的()偏()($^{\circ}$)

二、看图判断。(对的画“√”,错的画“×”)(10分)



- 笑笑家在红红的正北方向。()
- 东东家在笑笑家的正西方向。()
- 红红家离邮局最近。()
- 医院在红红的正西方向。()

三、看图标位置。(10分)



根据描述,把各场所的名称填在合适的括号里。

学校在车站正北方向。

邮局在车站正西方向。

商场在车站北偏东 45° 。

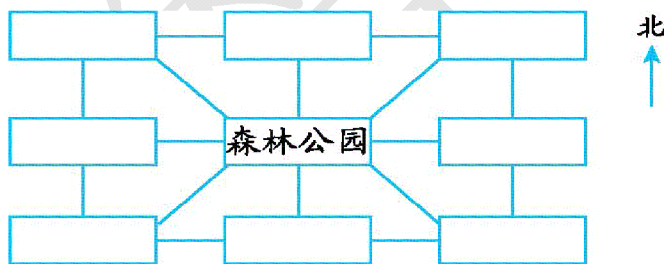
少年宫在车站北偏西 72° 。

医院在车站南偏西 33° 。

一中在车站南偏东 60° 。

书店在车站北偏西 28° 。

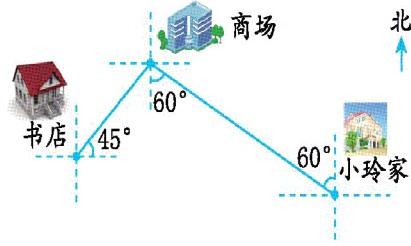
四、帮助小动物找到自己的家。(10分)



1.熊猫住在森林公园正北方向,小鹿住在森林公园正南方向。

2.小羊住在森林公园正东方向,小牛住在森林公园正西方向。

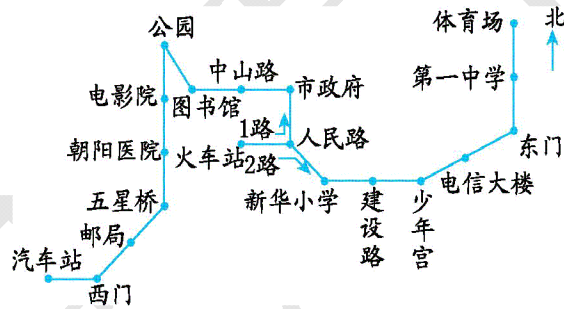
五、看图描述路线。(10分)



根据上面的线路图,说一说小玲去书店和回来时所走的方向和路线。

六、看图回答问题。(10分)

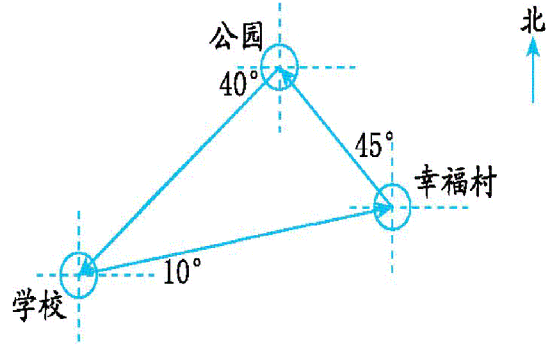
1路和2路公共汽车都是从火车站开出的。



1.小明从火车站去公园,应乘几路公共汽车?

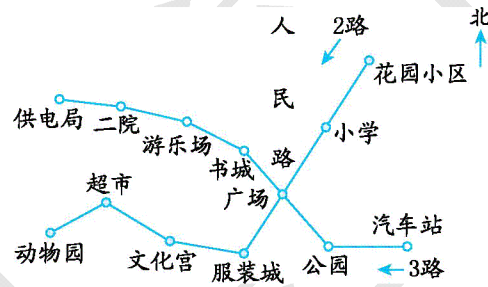
2.王老师从人民路去第一中学,应乘几路公共汽车?要乘几站?

七、学校举行冬季长跑比赛,比赛路线如下图。(20分)



根据路线图描述比赛所经过的方向。

八、想一想,填一填。(20分)



1. 2路车从()开往()。3路车从()开往()。
2. 小明从汽车站出发到书城,应乘()路车,乘()站。
3. 小亮从文化宫出发到游乐场,应先乘()路车到()站下车,再乘()路车到游乐场。
4. 从花园小区到书城怎样乘车?