

## 【冀教版单元测试系列试卷】

## 三年级数学下册第五单元

智慧山育儿微信公众号



扫描微信扫描二维码关注公众号可持续获取小学阶段的学习资料和老师课程

## 冀教版三年级数学下册第五单元测验试题

题号	一	二	三	四	五	六	七	总分
分数								

## 一、填空题

1. 把下面的数量关系写完整。

( ) ○ ( ) = 全班同学的平均体重

( ) ○ ( ) = 五年级平均每人种树多少棵

( ) ○ ( ) = 汽车每小时平均行的千米数

( ) ○ ( ) = 平均每天节约用水的吨数

## 二、写出综合算式，不要计算。

(1) 五(2)班有男生 18 人，共种树 100 棵；女生 20 人，共种树 80 棵。  
这个班平均每个学生种树多少棵？

---

(2) 五(2)班有男生 18 人，平均每人种树 5 棵；女生 20 人，平均每人种树 4 棵。这个班平均每个学生种树多少棵？

---

(3) 敬老院有老爷爷 8 人，平均年龄 74.5 岁；有老奶奶 12 人，平均年龄 82.5 岁。全院老人的平均年龄是几岁？

---

(4) 李明读一本书，前 4 天平均每天看 8 页；后 6 天共看了 58 页。李明平均每天看书多少页？

---

## 三、计算：

$90 \times 6 =$

$88 \div 2 =$

$71 \times 32 =$

$691 \times 0 =$

$21 \times 55 =$

$53 \times 74 =$

$16 \times 22 =$

$86 \times 37 =$

$155 \times 8 =$

$49 \times 59 =$































#### 四、红红和丫丫统计了三<1>班同学过生日的季节。

季节	春季	夏季	秋季	冬季
人数(人)	20	10	15	10




根据以上信息得知：

- ①三<1>班一共有( )名同学。
- ②三<1>班在( )季过生日的人最多。
- ③你还能想到什么问题呢？




#### 五、下面是石家庄地区某个月的天气情况。

1	2	3	4	5	6	7	8	9	10
									
11	12	13	14	15	16	17	18	19	20
									
21	22	23	24	25	26	27	28	29	30
									

①完成统计表

天气				共计
天数				

②请你把整理的数据用不同的颜色在下图中表示出来。

回答下面问题：

 比  少 ( ) 天？ 即：□ ○ □ = □

 比  多 ( ) 天？ 即：□ ○ □ = □

**六、下面是小智调查本班同学喜欢吃水果的情况。**

葡萄	男生：5人	女生：7人
西瓜	男生：10人	女生：6人
苹果	男生：12人	女生：8人
菠萝	男生：9人	女生：5人

(1) 根据小智的记录填写下表，并回答问题。

水果	葡萄	西瓜	苹果	菠萝
人数				

- ①小智本班男同学有( )人，女同学有( )人，一共有( )人。
- ②喜欢吃( )人数最多。
- ③你还能提出什么样的问题呢？

**七、果园工人分三组摘苹果。第一组 12 人，共摘苹果 4800 千克；第二组 13 人，共摘苹果 5850 千克；第三组 10 人，共摘苹果 4500 千克。**

(1) 根据题目，自己制作统计表并填写。

(2) 平均每人摘苹果多少千克？