

【冀教版单元测试系列试卷】

三年级数学上册第八单元

智慧山育儿微信公众号



扫描微信扫描二维码关注公众号可持续获取小学阶段的学习资料和老师课程

冀教版三年级数学上册第八单元测验试题

题号	一	二	总分
分数			

一、解决搭配问题。

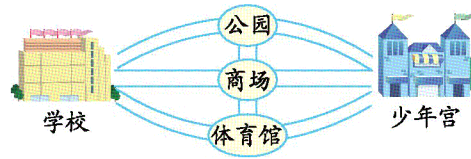
1.




2.



3.从学校到少年宫,一共有几种不同的路线可以走?



4.早餐有几种不同的吃法?



二、解决规律问题。

1. 有 35 颗糖,按淘气—笑笑—丁丁—冬冬的顺序,每人每次发一颗。想一想:谁分到最后一颗?

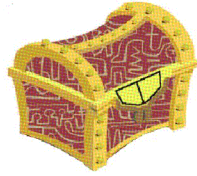
2.五个小朋友 A、B、C、D、E,依次轮流报数,报到 38 的是谁?

3.有一排围棋子,按“三黑二白”的顺序排列起来。想一想:第 39 个是什么颜色的棋子?第 81 个呢?

4.“学习数学真有趣学习数学真有趣……”如果按这样的规律排下去,第 59 个字是什么?

5.有一列数:1,3,5,1,3,5,1,3,5,...第 26 个数是几?

6.最多尝试多少次,密码箱就可以打开?



密码只有两位数。
个位是1、3、5、7
中的一个数字；十
位是2、4、6中的
一个数字。

智慧山