

## 【冀教版单元测试系列试卷】

## 三年级数学上册第七单元

智慧山育儿微信公众号



扫描微信扫描二维码关注公众号可持续获取小学阶段的学习资料和老师课程

## 冀教版三年级数学上册第七单元测验试题

题号	一	二	三	四	五	总分
分数						

### 一、填空题。

- 常见的计量物体轻重的单位有( )。
- 称量体重,一般用( )作单位;称量一枚硬币的质量,一般用( )作单位。
- 学校食堂有 8 吨煤,用了 3000kg,还剩( )吨。
- 一袋盐重 500 克,四袋这样的盐重( )克,也就是( )千克。
- 把下面的质量按要求排列。  
4 克 4 吨 400 千克 4004 千克 4000 克  
( ) > ( ) > ( ) > ( ) > ( )  
3090 千克 3900 克 3 吨 900 千克 9030 克  
( ) < ( ) < ( ) < ( )

### 二、判断题。(正确的画“√”,错误的画“×”)

- 一辆小货车载重 1kg。 ( )
- 1kg 铁和 1000g 棉花一样重。 ( )
- 小兰体重 30g。 ( )
- 一头成年蓝鲸重 30kg。 ( )
- $300g > 1kg$ 。 ( )
- 一条小金鱼重 2 吨。 ( )

7. 1000 个 1 克是 1 吨。 ( )
8. 小英今年 1 岁,体重是 1 千克。 ( )
9. 如果小红比小明重,那么小明就比小红轻。( )
10. 一条绳子长 6 克。( )

### 三、选择题。(把正确答案的序号填在括号里)

1. 最轻的是( )。

- A.7000 克      B.2 吨      C.2 千克

2.一枚 2 分硬币约重 1( )。

- A.g              B.kg              C.吨

3.2 袋水泥重 100( )。

- A.千克    B.克    C.吨

4.1 吨铁和 1 吨木材相比,( )。

- A.铁重些    B.木材重些    C.一样重

5.一头成年鲸的体重大约是( )。

- A.50 吨      B.50 千克      C.50 克

6.一只公鸡的质量约是 3( )。

- A.千克      B.吨      C.克

7.一节火车车厢大约能运货物( )吨。

- A.6          B.60          C.6000

8.买 1 千克香蕉需要 3 元钱,现有 18 元钱,可买( )克的香蕉。


- A.6          B.60          C.6000

### 四、操作题。


## 1. 在括号里填上合适的单位。



一块橡皮重10( )



一根香蕉重50( )



一头大象重1( )



一堆水果重2000( )



一只小鸡重2( )




一条轮船重200( )

## 2. 寻找合适的质量。



5吨 25千克 1克 18千克 100克 2千克








## 五、解决问题。

1. 菜店运来6吨大白菜,上午卖出3000千克,下午全部卖完。下午卖出大白菜多少千克?

2. 在一辆载重 5 吨的货车上装有 8 个集装箱,每个集装箱重 600 千克,这辆车超载了吗?

3.某鲜果公司将要运进一大批水果,见下表:

名称					
质量 (千克)	600	500	800	700	400

一辆载重量为 3 吨的货车能一次将这批水果全部运到吗?

4.果品公司收购苹果 26 吨,先运走 6000 千克,剩下的用载重为 4 吨的卡车一次运完。需要几辆这样的卡车?

智慧山