

## 【冀教版单元测试系列试卷】

三年级数学上册第五单元

智慧山育儿微信公众号



扫描微信扫描二维码关注公众号可持续获取小学阶段的学习资料和老师课程

## 冀教版三年级数学上册第五单元测验试题

题号	一	二	三	四	总分
分数					

### 一、填空题。

1. 在一个算式里,既有加减法,又有乘除法,要先算( )法,后算( )法;有小括号的算式,要先算( )里面的。

2.  $72 \times 3 - 69 \div 3$  要先算( )法和( )法,再算( )法。

3.  $38 \times (27 - 24)$  要先算( )法,再算( )法。

4. 把下面每组算式写成一个算式,并计算。

(1)  $73 + 21 = 94$   $94 \times 3 = ( )$

综合算式:( )

(2)  $53 - 44 = 9$   $84 \div 9 = ( )$

综合算式:( )

5. 学校买来 6 盒羽毛球,每盒 12 个,用去了 32 个,还剩( )个。

6. 丰丰家收苹果 40 筐,收梨 23 筐,如果每次运走 9 筐,( )次能运完。

7. 看一本 76 页的书,已经看了 3 天,还剩 16 页没看,平均每天看( )页。

8. 学校栽了 6 行杨树,每行 15 棵,栽的柳树比杨树多 40 棵,栽了( )棵柳树。

9. 学校买来 54 本科技书,其中 9 本给老师用。把剩下的书平均分给 5 个班,每班分到( )本。

10. 一把椅子的价钱是 25 元,一张桌子的价钱是一把椅子的 3 倍,一张桌子( )

元,买 8 把椅子和 2 张桌子共( )元。

## 二、选择题。(把正确答案的序号填在括号里)

1. 91 减去 75 的差的 3 倍,列式是( )。

A.  $91-75\div 3$       B.  $91-75\times 3$       C.  $(91-75)\div 3$       D.  $(91-75)\times 3$

2. 把  $34\times 7=238$ ,  $238-42=196$ ,  $84\div 2=42$  三个算式组成一个综合算式是( )。

A.  $34\times 7-84\div 2$       B.  $34\times 7-42$       C.  $238-84\div 2$       D.  $238-42$

3. 64 减去 24 的差,除以 4,商是多少?列式为( )。

A.  $64-24\div 4$       B.  $(64-24)\div 4$       C.  $64+24\div 4$       D.  $(64+24)\div 4$

4. 小林买了 24 个梨,48 个桃,把这两种水果每 8 个装一盘,求一共可装多少盘。列式是( )。

A.  $24+48\div 8$       B.  $24\div 8+48$       C.  $(24+48)\div 8$       D.  $24+48\div 8$

## 三、计算题。

1. 直接写得数。

$$50\times 4= \quad 48\div 4= \quad 30\times 3=$$

$$72\div 6= \quad 80\div 2= \quad 64-27=$$

$$75\div 5= \quad 99\div 9= \quad 701\times 0=$$

2. 计算。



$$54+42\div 7$$

$$(39+13)\times 9$$

$21 \times 8 + 81 \div 3$

$24 \times 5 + 27 \times 7$

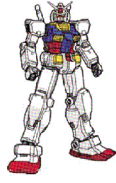
#### 四、解决问题。

1.  和  8小时一共能吃多少只害虫？

我每小时能吃  
31只害虫。

我每小时能吃  
10只害虫。

2. 一个机器人比一个布娃娃贵多少钱？



78元



96元

3.工人叔叔在 3 天内要做 218 个零件。第一天做了 120 个,后两天平均每天要做多少个才能完成?

4.



76元



22元

(1)买 3 件上衣比买 4 条裙子多花多少元钱?

(2)衣服和裙子各买 4 件,300 元够吗?

5.一件衬衣 24 元,一套西服的价钱是一件衬衣的 8 倍。

(1)买一件衬衣和一套西服共需多少元?

(2)买一件衬衣比买一套西服少用多少元?