

【冀教版期中测试试卷】

二年级数学上册

智慧大当家微信公众号



扫描微信扫描二维码关注公众号可持续获取小学阶段的学习资料和课程

冀教版二年级数学上册期中测验试题

(满分:100分 时间:60分钟)

题	一	二	三	四	五	六	七	总
分								

一、填空。(29分)

1.观察长方体时,最多能看到()个面,其中相对的面是完全()的;从前面、侧面和上面观察正方体时,都看到的是一个();从前面、侧面和上面观察球时,都看到一个()。


2.计算 $100-34-56$ 时,我们可以按照从左往右的顺序,先算(),得(),再算(),最后得();也可以先计算()+(),再用 $100-()$,结果还是()。

3.4个5相加,可以写作() \times (),也可以写作() \times ()。

4.把口诀补充完整。

二四() 三五() 四六() 二()一十

5.数一数下面的图形中分别有几个角。



()个角



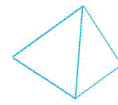
()个角



()个角



()个角



()个角

6.二年级的同学们去电影院看电影,二(1)班去了39人,二(2)班去了32人,二(3)班去了28人,三个班一共去了()人。

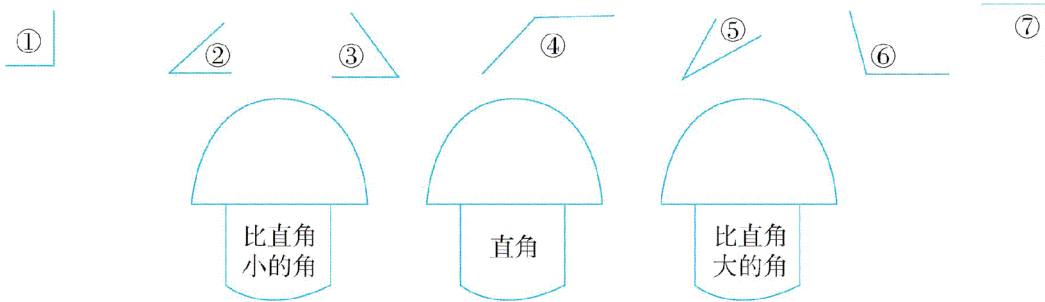
7.一块三角板中,有()个角,其中有()个直角。

8.拿一张纸,先上下对折,再()对折可以得到直角。


二、辨一辨。(正确的画“√”,错误的画“×”)(6分)

- 1.角的大小与边的长短没有关系。 ()
- 2.角的两条边张开得越大,角就越大;角的两得边张开得越小,角就越小。 ()
- 3.三角板上的三个角中,最大的一个角是直角。 ()

三、将序号填在正确位置。(6分)



四、已知正方体相对面的图案一样,看图连一连。(6分)



五、算一算。(20分)

1.用你喜欢的方法计算。(8分)

$15+36+24=$

$82-45-13=$

$12+79-36=$

$76-35+28=$

2.直接写得数。(12分)

$3 \times 4 =$

$4 \times 2 =$

$2 \times 3 =$

$3 \times 1 =$

$0 \times 2 =$

$5 \times 5 =$

$4 \times 3 =$

$5 \times 2 =$

$4 \times 1 =$

$2 \times 2 =$

$1 \times 5 =$

$3 \times 3 =$

六、看图写算式。(12分)

1. 看图写出两个算式,并写出口诀。(6分)



$$\square \circ \square = \square \text{ 或 } \square \circ \square = \square$$

口诀: _____

2. 写出乘法算式,再读出来。(6分)

4个2相加

3乘5

6和4相乘

七、解决问题。(21分)

1. 小猪和小兔进行跳绳比赛。(6分)

小动物	小猪	小兔
平均每分钟跳成功的个数	4	6


(1) 小兔3分钟跳成功了多少个?

$$\square \circ \square = \square \text{ (个)}$$

(2) 小猪 4 分钟跳成功了多少个?

$$\square \bigcirc \square = \square (\text{个})$$

2. 一共植了多少棵树?(5 分)



3. 金色的秋天来到了,小松鼠一家忙着收集松果。松鼠爸爸收集 34 个松果,松鼠妈妈收集 28 个松果,小松鼠收集 23 个松果。松鼠一家一共收集了多少个松果?(5 分)

4.学校里原来种了43棵树,今年死了5棵,植树节时又种了18棵,现在学校里有多少棵树?(5分)

智慧山