

【冀教版单元测试系列试卷】

二年级数学上册第八单元

智慧山育儿微信公众号



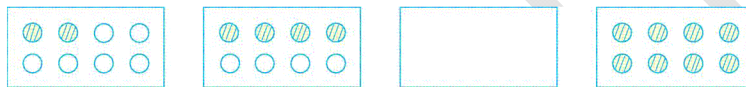
扫描微信扫描二维码关注公众号可持续获取小学阶段的学习资料和老师课程

冀教版二年级数学上册第八单元测验试题

题号	一	二	三	四	总分
分数					

一、填一填。(20分)

1.



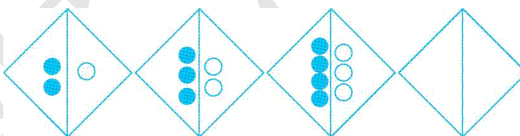
2.



3.



4.



5.




6.



7.



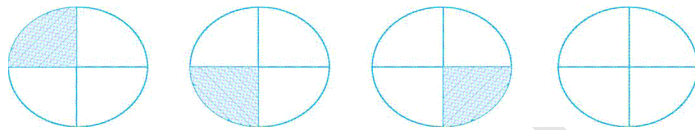
8.



9.



10.



二、接着写。(20分)

1.



2.



3. 30, 25, 20, (), ()

4. 19, 17, 15, 13, 11, 9, (), ()

5. 1, 2, 3, 5, 8, (), ()

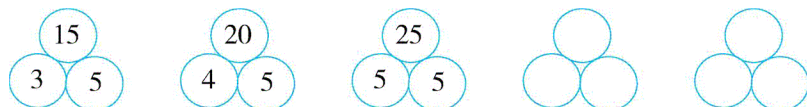
6.

1	10	19	37
---	----	----	----


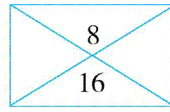
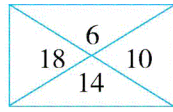
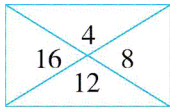
7.

		18	30	36
--	--	----	----	----

8.



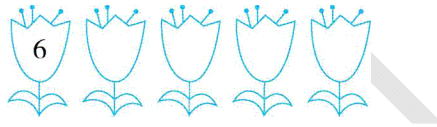
9.



10. 1,4,9,16,25,36,(),()

三、你能在每朵花中写上一个数,使这些花也按一定的规律排列吗?

(20分)



四、解决问题。(40分)

1.丫丫和4个同学去公园玩,买门票共花了25元,平均每张门票多少元?

2.学校里原来种了50棵树,今年死了5棵,植树节时又种了28棵,现在学校里有几棵树?

3.

(1)买 8 个羽毛球要多少钱?

(2)一个足球的价钱是一个乒乓球价钱的多少倍?

4.同学们收集废旧玻璃瓶,小红收集了 39 个,小明收集了 27 个,还要收集多少个才是 100 个?

