

## 【冀教版单元测试系列试卷】

二年级数学上册第七单元

智慧山育儿微信公众号




扫描微信扫描二维码关注公众号可持续获取小学阶段的学习资料和课程


## 冀教版二年级数学上册第七单元测验试题

题号	一	二	三	四	五	总分
分数						

### 一、填一填。(20分)




(1)一共有( )朵 , 每( )朵一份, 可以分成( )份。列算式为( )。

(2)一共有( )朵 , 平均分成( )份, 每份有( )朵。列算式为( )。

2. 把“ $8+8+8+8+8$ ”写成乘法算式是( )或( )。

3.  $54 \div 6 = 9$ , 读作( ), 除数是( ), 被除数是( ), 商是( )。

4.



 是  的( )倍。

5. 买一个  要 8 元, 48 元钱可以买( )个  。

6. 49 里面最多有( )个 7, 72 里面最多有( )个 9。

7. 32 人乘车去郊游, 每辆车坐 8 人, 需要( )辆车。


## 8. 括号里最大能填几?

$( ) \times 8 < 65 \quad ( ) < 5 \times 9 \quad 30 > 5 \times ( )$


## 9. 将下列算式按顺序填在括号里。

$9 \times 5 \quad 56 \div 7 \quad 8 \times 8 \quad 72 \div 8 \quad 42 \div 6$

$( ) > ( ) > ( ) > ( ) > ( )$

10. 一顶  8 元, 买 8 顶需要付( )元。

## 二、辨一辨。(正确的在括号里画“√”错误的画“×”)(20分)

1. 有 36 块 , 每 6 块装一袋, 可以装 6 袋。( )2.  $9 \times ( ) < 72$ , 括号里最大能填 8。( )3. 如果  $\square \div 6 = 1$ , 那么  $\square = 6$ 。( )

4. 姐姐有 16 本作业本, 妹妹有 8 本, 姐姐给妹妹 4 本后, 两人的作业本同样多。( )

5. 把 48 个  分成 8 份, 每份是 6 个。( )

## 三、选一选。(将正确答案的序号填在括号里)(20分)

1. 有 3 个盘, 每个盘里放 9 个苹果, 一共有几个苹果? 下面列式正确的是( )。

A.  $9 \times 3$       B.  $3 + 9$       C.  $9 \div 3$ 

2. 有 2 个盘, 一个盘里放 9 个苹果, 另一个盘里放 3 个苹果, 一共有几个苹果? 下面列式正确的是( )。

A.  $9 \times 3$     B.  $3 \times 2$     C.  $9 + 3$ 

3. 第二小组做的好事件数是第一小组的 4 倍, 第一小组做了 8 件, 第二

小组做了多少件?下面列式正确的是( )。

A.  $4+8$  B.  $8\div 4$  C.  $8\times 4$

四、算一算。(20分)

1.直接写得数。

$$42\div 6= \quad 48\div 6= \quad 36\div 9= \quad 9\div 9= \quad 35\div 5=$$

$$40\div 8= \quad 27\div 3= \quad 49\div 7= \quad 6\times 9= \quad 81\div 9=$$

2.在括号里填上合适的数。

$$( )\times 8=56 \quad ( )\div 7=7 \quad 81\div ( )=9 \quad 25\div 5=45\div$$

( )


五、解决问题。(20分)

1.我们班有4捆树苗,每捆8棵,一共有多少棵?

2.一支钢笔9元钱,现有72元,可以买几支钢笔?

3.一共有( )个气球,平均分给 6 个小朋友,每个小朋友分几个?(补充条件,并解答出来)

4.



5.二年级一班 48 个同学去游乐场,飞车每辆可以坐 8 人,小船每条可以坐 6 人。

(1)都玩飞车,可以坐满几辆车?

(2)如果都坐小船,该租几条船?

6.用 7 枝菊花、6 枝月季、3 枝郁金香扎成一束花。用下面这些花最多可以扎成几束？

菊花	月季	郁金香
21	18	15

智慧山育儿