

【冀教版单元测试系列试卷】

二年级数学上册第四单元

智慧山育儿微信公众号



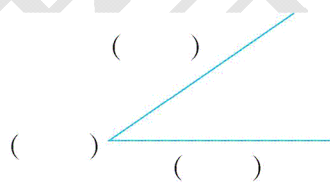
扫描微信扫描二维码关注公众号可持续获取小学阶段的学习资料和老师课程

冀教版二年级数学上册第四单元测验试题

题号	一	二	三	四	五	总分
分数						

一、填一填。(20分)


1. 一条红领巾有()个角,一面国旗有()个角。
2. 一个长方形中有()个直角,两块手帕有()个直角。
3. 三角板上有()个角,其中最大的那个角是()角。
4. 一个角有()个顶点,()条边。
5. 请你给下图的角的各部分填上名称。



6. 写出下图中标出的各是什么角。




()角



()角



()角



()角


7. 数一数下面的图形中各有几个角,填在()里。



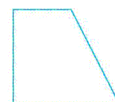
()



()



()



()

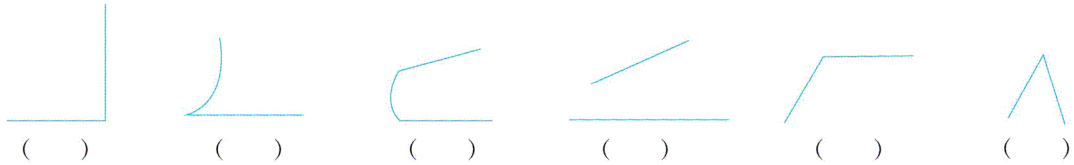
二、判断。(10分)

1. 角的大小与边的长短没有关系。()
2. 角的两条边张开得越大,角就越大;角的两得边张开得越小,角就越小。()

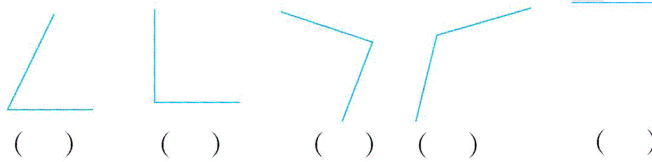
3.三角板上的三个角中,最大的一个角是直角。()

三、辨一辨。(20分)

1.下面的图形哪些是角?是角的在括号里画“√”,不是的画“×”。



2.用三角板上的直角比一比下面哪些角是直角,是直角的画“√”,不是直角的画“×”。




3.用三角板比一比下面哪个角大哪个角小,大的画“√”,小的画“×”。(8分)

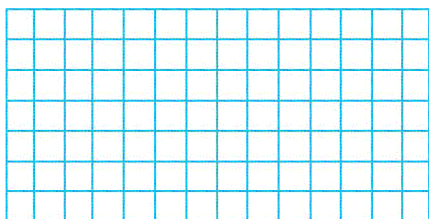


四、画一画。(20分)

1.在方格纸上画一个直角、一个锐角和一个钝角。



2.画一个图形,要求有四个直角。



五、解决问题. (30分)

1.小明画了4个三角形,一共画了多少个角?

2.一个正方形有4个直角,一个正方体上有多少个直角?

3.给下面的图形加上一条线段,使图形增加3个直角。

