

## 【冀教版单元测试系列试卷】

二年级数学上册第一单元

智慧山育儿微信公众号



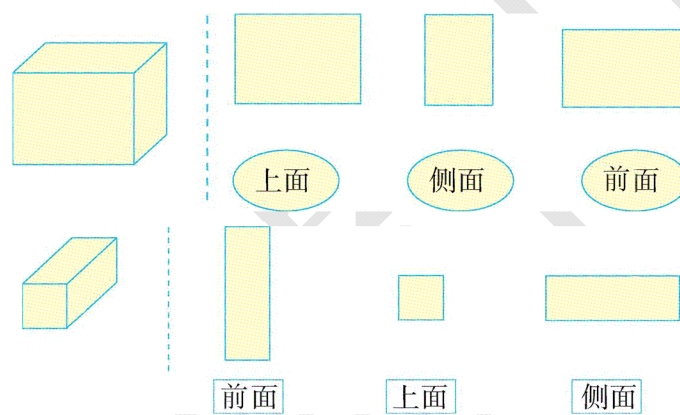
扫描微信扫描二维码关注公众号可持续获取小学阶段的学习资料和老师课程

## 冀教版二年级数学上册第一单元测验试题

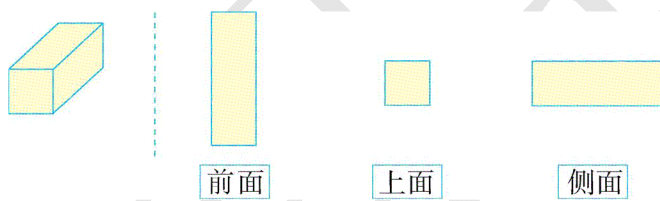
题号	一	二	三	四	五	总分
分数						

### 一、连一连。(20分)


1. 右边的三个图形分别是在哪个方向看到的?




2. 摆一摆, 连一连。



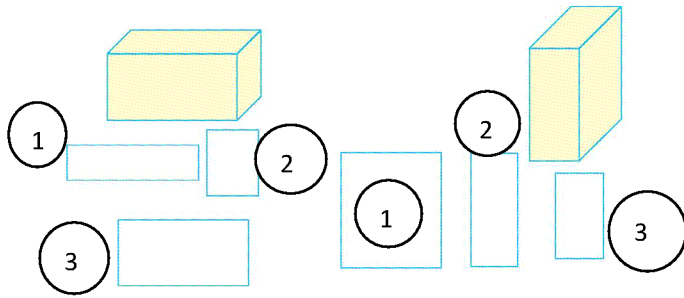
3. 他们看到的分别是哪幅图? 连一连。



二、小丽看到的是哪幅图, 在下面的括号里画“√”。(20分)



### 三、在看到的图形内标明是从哪个方向看到的。（20分）



① \_\_\_\_\_

① \_\_\_\_\_


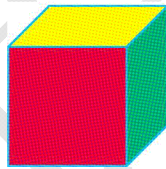
② \_\_\_\_\_

② \_\_\_\_\_

③ \_\_\_\_\_

③ \_\_\_\_\_

### 四、你能说出下面正方体和长方体的前面、侧面和上面各是什么颜色的吗？（20分）



正方体:

\_\_\_\_\_

\_\_\_\_\_

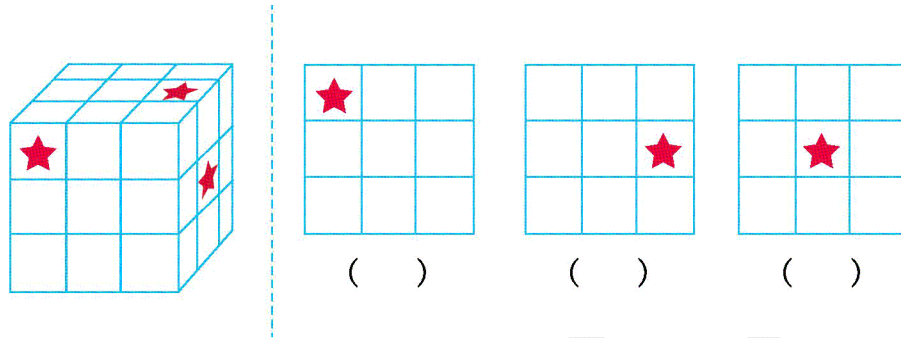
长方体:

\_\_\_\_\_

\_\_\_\_\_

## 五、猜一猜。(20分)

1.五角星分别在大正方体的哪个面?



2.下面这些图分别是谁看到的?在括号里填上小朋友的名字。

