

## 【冀教版单元测试系列试卷】

一年级数学下册第六单元

智慧山育儿微信公众号



扫描微信扫描二维码关注公众号可持续获取小学阶段的学习资料和课程

## 冀教版一年级数学下册第六单元测验试题

题号	一	二	三	四	总分
分数					

### 一、填空。

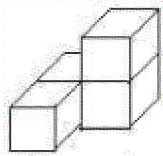
1. 按规律填数。

11 9 7

2. 1、2、3.....9 都是 ( ) 位数,其中最小的数是 ( ),最大的数是 ( )。

3. (1) 10、11、12.....99 都是 ( ) 位数,其中最小的数是 ( ),最大的数是 ( )。

(2) 400 是 ( ) 位数。



4. 有 ( ) 块

5. 按规律填数。

(1) 6 9 12

(2) 20 18 16

6. 方格里该填什么数?

(1) 3 5 7

(2) 5 □ 15 □ 25

7. 一个乒乓球 5 角钱,一根跳绳 9 角钱,买一个乒乓球和一根跳绳一共用 ( ) 角,合 ( ) 元 ( ) 角。买 2 个乒乓球、2 根跳绳一共用 ( ) 角,合 ( ) 元 ( ) 角。

8. 一支铅笔 8 分钱, 买一块橡皮与买两支铅笔的价钱同样多, 一块橡皮 ( ) 分钱,合 ( ) 角 ( ) 分。买一块橡皮一支铅笔共花 ( ) 分钱, 合 ( ) 角 ( ) 分。

9. 写出十位上是 7 的全部数。

\_\_\_\_\_

10. 写出个位上是 7 的全部数。

\_\_\_\_\_

11. 写出个位和十位上数字相同的全部两位数。

\_\_\_\_\_

12. 在 7、51、63、6、17、4 和 81 中,

一位数有 ( ) ,其中最小的数是 ( ) 。

两位数有 ( ) ,其中最大的数是 ( ) 。

## 二、计算。

59-9=      16+70=      67-8=      70-7=      53-8=

3+48=      81-6=      7+73=      50+40=      99-9=

46+6=      91-50=      65+7=      20+49=      45-30=

43+9=      52-8=      69-8=      50+50=      100-50=

$57+8=$        $6+56=$        $25+70=$        $42+6=$        $71+9=$   
 $42-8=$        $63-3=$        $46-7=$        $54+6=$        $28+4=$   
 $75-9=$        $36+5=$        $17+6=$        $60+38=$        $43-8=$   
 $58-30=$        $62-7=$        $38-4=$        $61-7=$        $96+4=$   
 $62-50+7=$        $80+6+3=$        $30+14-6=$        $90-40+15=$

三、比大小，在○里填上“>、<、=”。

$37-7$  ○  $30$        $45+9$  ○  $53$        $5+67$  ○  $72$   
 $75-50$  ○  $20$        $38$  ○  $30+7$        $32-8$  ○  $40-9$

四、应用题。

1、

树上一共有 93 个松塔。

我们已经采了 70 个松塔。

还剩多少

□ ○ □ = □ ( )

2、




我今年 65 岁。

我今年 7 岁。

奶奶比小明大几岁？

□ ○ □ = □ ( )

## 3、小红家养的家畜。

			
只数	20	30	46

(1) 鸭比鸡多多少只？(2分)

$$\square \bigcirc \square = \square \quad ( \quad )$$

(2) 鸡比鹅少多少只？(2分)

$$\square \bigcirc \square = \square \quad ( \quad )$$

(3) 你还能提出什么问题？会解答吗？(4分)

---