

【冀教版单元测试系列试卷】

一年级数学下册第二单元

智慧山育儿微信公众号



扫描微信扫描二维码关注公众号可持续获取小学阶段的学习资料和老师课程

冀教版一年级数学下册第二单元测验试题

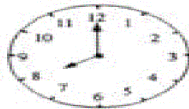
题号	一	二	三	四	五	六	七	八	九	总分
分数										

一、基础填空。

- 钟面上的又细又长的针的针叫()针, 又短又粗的针叫()。
- 时针走一圈是()个小时, 分针走一圈是()小时, 时针走一格是()小时。
- 下面钟面上的时间是几时。













二、画一画

- 请你给下面的钟面画上时针或分针。



4时



7时



10时



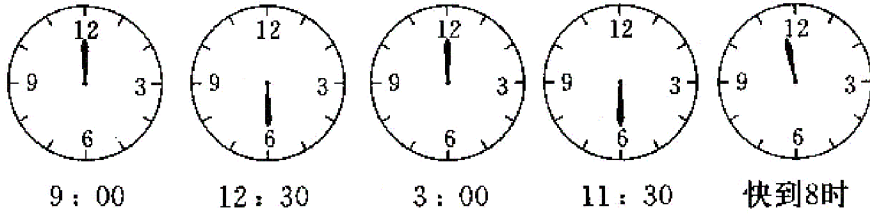
6:30



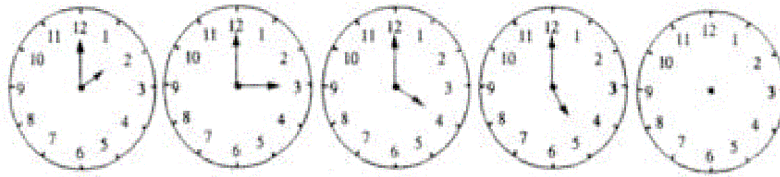
9:30



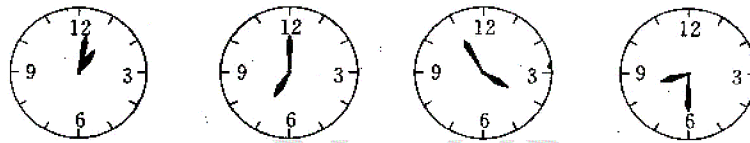
12:30



2. 仔细观察前面钟表表面找规律，画出最右边钟面上的时针和分针。




三、连一连。



快4时了 8时半 1时刚过 7时

四、写一写下面各钟面上的时间。



() () () ()

五、在括号内填上合适的时间单位

1. 一节课的时间是 40 ()。
2. 小学生每天在校时间是 6 ()。
3. 小新跑 60 米要 12 ()。
4. 工人叔叔每天工作 8 ()。

5. 从上海坐火车到北京要 17 ()。

6. 李勇从家走到学校要 15 ()。

六、判断(正确的在()里打“√”，错的打“×”)

1. 2 小时=20 分 ()

2. 分针从一个数字走到下一个数字是 5 分钟。 ()

3. 时针在 5 和 6 之间，分针指着 9，是 5:45。 ()

4. 时针和分针都指着 12 时是 12 时整。 ()

5. 分针在中轴上走一圈是 60 分，也就是 1 小时。 ()

七、六年级同学今天参加数学考试，8 点整开始，120 分钟后结束。请你算一算，几点考试结束？

