

【冀教版单元测试系列试卷】

一年级数学下册第一单元

智慧山育儿微信公众号




扫描微信扫描二维码关注公众号可持续获取小学阶段的学习资料和课程

冀教版一年级数学下册第一单元测验试题

题号	一	二	三	四	五	六	七	八	九	总分
分数										


一、找朋友。



李红 小明 小花 丁一 小月 小洁 王强 小英 张文

- (1) 小花是左边数起的第 () 个, 右边数起的第 () 个。
- (2) 左边数起的第 5 个, 就是右边数起的第 () 个, 这个小朋友是 () 。
- (3) 丁一的左边是 () , 右边是 () 。


二、识别动物。



- (1) 上面是一群小动物在一起休息。从左数起小马是第 () 位, 从右数起小象是第 () 位。

- (2) 小鹿的右边有 () 个, 左边有 () 个, 一共有 () 个小动物。

三、爬楼梯。



- (1) 下楼的小朋友是靠 () 边走, 上

楼的小朋友是靠（ ）边走。

(2) 上楼、下楼和在路上行走我们都应靠（ ）边走。

四、数水果，填一填。



(1) 从左数香蕉排第（ ），它的左边是（ ）。

(2) 梨的左边有（ ）种水果，葡萄在它的（ ）边。

(3) 上面共有（ ）种水果，从左数第一个是（ ）。

五、认一认。



左手号码是（ ），右手号码是（ ）。

六、连一连。（把下面的花盆按要求放在花架上）




水仙花的左边是香花，右边是菊花。

桃花的左边是兰花。月季的右边是太阳花。

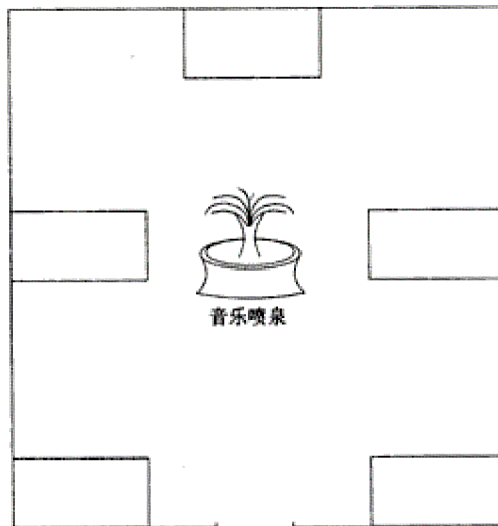
七、玩具箱。

飞机的右边有哪些玩具？ _____

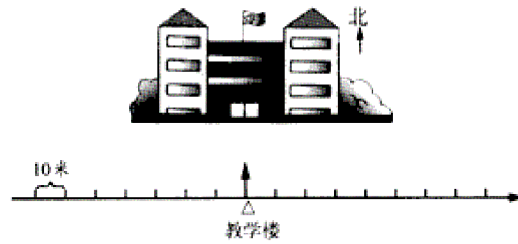
大象的左边有哪些玩具？ _____



八、走进公园大门正面是音乐喷泉，在音乐喷泉的正北方是碰碰车的场地，它的东侧是溜冰场，它的西侧是过山车。音乐喷泉的西南是高空观览车，它的东南是水上乐园。根据描述，把这些游乐项目标在图上。



九、在教学楼西面 50 米的地方是乒乓球馆，东面 50 米的地方是图书室，请你用“○”分别标出乒乓球馆和图书室的位置。



智慧山