

【冀教版期末试卷】

一年级数学上册

智慧山育儿微信公众号



扫描微信扫描二维码关注公众号可持续获取小学阶段的学习资料和课程

姓名：

班级：

学号

冀教版数学一年级上期末试卷【基础卷】

题号	一	二	三	四	五	六	总分
分数							

一、我会算。

$10-6=$

$9+5=$

$10-7=$

$10-10=$

$13-6=$

$9+7=$

$7+7=$

$8+6=$

$7+8=$

$9+0+7=$

$5+4=$

$12-6-5=$


$3+2+7=$

$7+4-9=$

$10+3-5=$

二、我会填。

1.看图填数。



()



()



()

2. 找规律填数。

2, 4, (), (), (), ()。

1, 3, (), (), (), ()。

(10, 1), (9, 2), (,), (,), (,), (,)。


3. 水果排队。



(1) 上图一共有 () 种水果。





(2) 从左边数起,  排在第 (),  排在第 (), 排在第 5 的是 ()。

(3) 从右边数起,  排在第 (),  排在第 (), 排在第 6 的是 ()。

(4) 从左边数起,  后面有 () 种水果, 前面有 () 种水果, () 排在最前面, () 排在最后面。




4. 比一比, 填一填。



 有 7 个, 再添 () 个 ,  就比  多 7 个了。

三、我会分。

1. 把这些食物分给谁呢？用线连一连。




2. 分一分，填一填。



四、请将下列动物按要求分类，将序号填在相应的圈内。



①



②



③



④



⑤



⑥

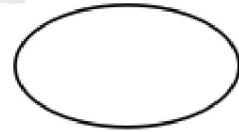
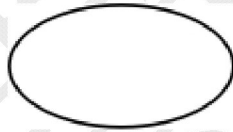
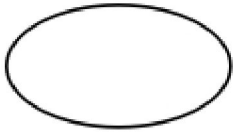
⑦

⑧

爬行类

飞行类

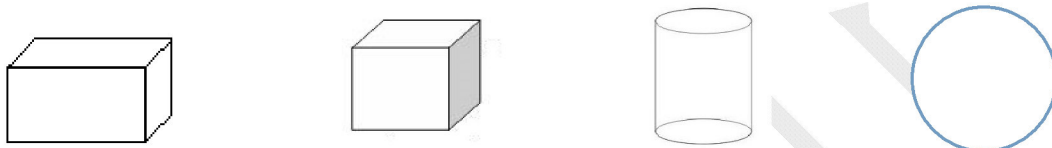
水生类



五、连一连。


- | | | | |
|----|------|-----|------|
| 1. | 15-9 | △9 | 10-5 |
| | 3+6 | △5 | 20-2 |
| | 5+8 | △6 | 12-6 |
| | 13-8 | △11 | 4+9 |
| | 9+9 | △13 | 4+7 |
| | 14-3 | △18 | 11-2 |

2. 认物体。



六、我会比较。

1. 在高的下面的括号里打“√”，矮的下面打“×”。




()

()

()

()

2. 两只小蚂蚁爬行的速度一样快，哪只小蚂蚁先到家？在后面的括号里打“√”。





()





()

查询答案方式

用微信扫面右侧
二维码，关注智慧山
微信号后，在智慧山
微信号里回复“答案”
两个字，再在返回
的页面里选择对应版
本的答案即可。



智慧山试卷

姓名：

班级：

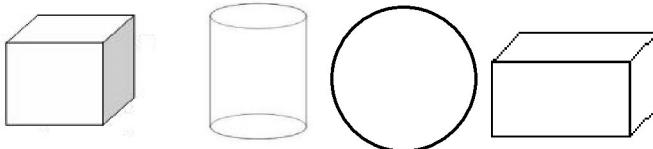
学号：

冀教版数学一年级上期末试卷【提高卷】

题号	一	二	三	四	五	六	七	总分
分数								

一、填空。

- 4个一和1个十合起来是()。
- 15里面有()个十和()个一。
- 19前面的一个数是()，19后面的一个数是()。
- 7后面连续的四个数是()，()，()，()。
- 找规律填数：1，3，5，()，()，11，13。
- 与12相邻的两个数是()和()。
- 12里面有()个十和()个一，20个一是()。
- 在14，1，4，8，15，12中，最大的数是()，最小的数是()。
- () + 5 = 10 15 - () = 7
- 下面图形从正面看是长方形的是_____

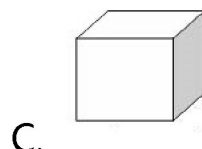


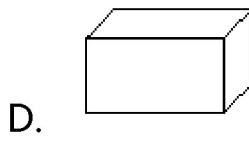
二、判断。（对的打“√”，错的打“×”）

1. 从 10 到 20，一共数了 11 个数。 ()
2. 11 中的两个“1”都表示 1 个一。 ()
3. 比 9 大 6 的数是 3。 ()
4. 从 10 里面减去 6 个一，还剩 4 个一。 ()
5. $9+8=8+9$ ()

三、选择。（把正确答案的序号填在括号里）

1. 7 比 9 少 ()。
A. 1 B. 2 C. 3
2. 从 0-9 共有 () 个数。
A. 9 B. 10 C. 11
3. 把 5 根火柴分给两只兔子（每只兔子至少分一根），有 () 种分法。
A. 2 B. 3 C. 4
4. 下面大于 5 的是 ()。
A. 2 B. 3 C. 9
5. 下面的物体中，() 是圆柱。





四、计算。

1.

$$8 - \begin{cases} 4 = \\ 5 = \\ 6 = \end{cases} \quad 9 + \begin{cases} 9 = \\ 8 = \\ 7 = \end{cases} \quad 12 - \begin{cases} 2 = \\ 4 = \\ 6 = \end{cases}$$

2. 你能填上数使下面的算式都成立吗？

$$\begin{array}{lll} 5 + () = 12 & () + 3 = 9 & 7 + () = 13 \\ 8 + 7 = () & 7 + () = 16 & () + 9 = 13 \\ 6 + () = 12 & 9 + () = 17 & 13 - () = 11 \\ () - 6 = 9 & 13 - () = 8 & () - 9 = 3 \end{array}$$

五、和我一起整理。

下面的东西要放入文具盒，箱子和冰箱里，怎样放比较合适？试一试。



六、解决问题。

1. 花丛中先飞走了 8 只蝴蝶，又飞走了 11 只蝴蝶。

(1.) 两次共飞走了多少只蝴蝶？

(2.) 第二次比第一次多飞走了多少只？

2. 小丽今年比哥哥小 3 岁，过两年后，小丽比哥哥小多少岁？

3. 琳琳的左边有 8 个人，右边有 4 个人，从琳琳的左边移几个人到琳琳的右边，琳琳就站在正中间？

4. 小红、小丽、小云三人同住在一栋高层住宅区里，小丽家比小云家高 8 层，小云家比小红家低 2 层。小红与小丽谁家住的楼层高？比另一家高几层？

七、附加题。

三棵树上共有 12 只小鸟，3 只小鸟从第一棵树上飞到第二棵树上，第二棵树上的 2 只小鸟又飞到了第三棵树上。这时候，三棵树上的小鸟就一样多了。问：最初每棵树上各有几只小鸟？

查询答案方式

用微信扫面右侧二维码，关注智慧山微信号后，在智慧山微信号里回复“答案”两个字，再在返回的页面里选择对应版本的答案即可。

