

## 【冀教版单元测试系列试卷】

一年级数学上册第八单元

智慧山育儿微信公众号




扫描微信扫描二维码关注公众号可持续获取小学阶段的学习资料和老师课程

## 冀教版一年级数学上册第八单元测验试题

题号	一	二	三	四	五	六	总分
分数							

### 一、夺红旗比赛。

$$10 \xrightarrow{-2} \square \xrightarrow{-2} \square \xrightarrow{+4} \square \xrightarrow{+3} \square \xrightarrow{+7} \square$$


$$9 \xrightarrow{-1} \square \xrightarrow{-7} \square \xrightarrow{+8} \square \xrightarrow{+5} \square \xrightarrow{+6} \square$$


### 二、在 里填上 ">" "<" 或 "="。

$9+3 \text{  } 13$

$7+6 \text{  } 5+8$







$8+7 \text{  } 6+9$

$9+5 \text{  } 8+7$

$9+6 \text{  } 3+2+4$

$7+7 \text{  } 5+9$

### 三、连一连。



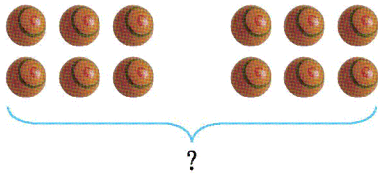
### 四、算一算。

$9+2=$        $8+6=$        $9+4=$        $8+3=$        $6+2+2=$

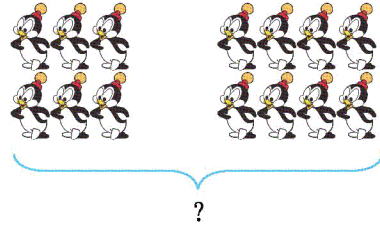
$5+7=$        $9+9=$        $8+9=$        $9+5=$        $4+5+5=$

$6+5=$        $9+7=$        $3+9=$        $7+7=$        $2+8+7=$

## 五、看图列式计算。




1.  $\square \bigcirc \square = \square$



2.  $\square \bigcirc \square = \square$

## 六、解决问题。

1. 两个小朋友一共做了多少朵花?



2.



(1) 跳舞的和演奏的一共有多少人?

$$\square \bigcirc \square = \square$$


(2) 演奏的和踢毽子的一共有多少人?

$$\square \bigcirc \square = \square$$

(3) 跳舞的、演奏的和踢毽子的一共有多少人?

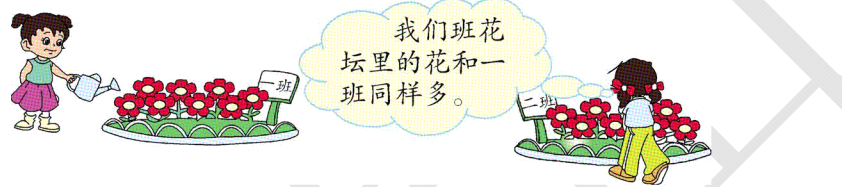
$$\square \bigcirc \square \bigcirc \square = \square$$

3.原来有多少个?



$$\square \bigcirc \square = \square$$

4.两个花坛一共有多少朵花?



$$\square \bigcirc \square = \square$$