

【冀教版单元测试系列试卷】

一年级数学上册第七单元

智慧山育儿微信公众号

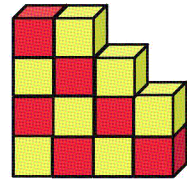
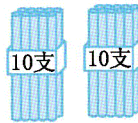



扫描微信扫描二维码关注公众号可持续获取小学阶段的学习资料和老师课程

冀教版一年级数学上册第七单元测验试题

题号	一	二	三	四	五	六	七	八	总分
分数									

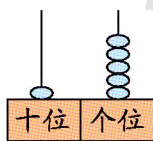
一、数一数,写一写。



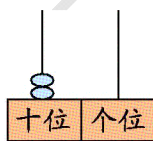
二、填空题。

1. 16 里面有 1 个十和()个一;13 是由()个十和()个一组成的。
2. 2 和 10 合起来是()。
3. 17 和 19 中间的数是(),和 16 相邻的数是()和()。
4. 从 18 里面去掉()还剩 10,20 前面相邻的一个数是()。

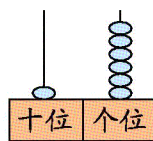
三、写出下面各数。



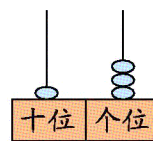
()



()



()



()

四、在○里填上 ">" "<" 或 "="。

$10 \bigcirc 14$

$15 \bigcirc 10$

$20 \bigcirc 10+10$

$4 \bigcirc 14$

$18 \bigcirc 14$

$7+2 \bigcirc 6$

$13 \bigcirc 12$

$15 \bigcirc 15$

五、按要求做题。

1. 哪个数最接近 10? 圈一圈。

3	7	12	18
---	---	----	----

2. 画出计数器上的珠子。

十位	个位		十位	个位		十位	个位		十位	个位
11			20			5			14	

3. 找规律, 填一填。

(1)

10	11	□	□	□	15	16	□	18	□	□
----	----	---	---	---	----	----	---	----	---	---

(2)



4. 我会填。

$\begin{array}{c} 16 \\ / \quad \backslash \\ 6 \quad \square \end{array}$	$\begin{array}{c} 20 \\ / \quad \backslash \\ 10 \quad \square \end{array}$	$\begin{array}{c} 17 \\ / \quad \backslash \\ \square \quad 7 \end{array}$	$\begin{array}{c} 10 \quad 5 \\ \backslash \quad / \\ \square \end{array}$	$\begin{array}{c} 10 \quad \square \\ \backslash \quad / \\ 18 \end{array}$	$\begin{array}{c} 10 \quad 9 \\ \backslash \quad / \\ \square \end{array}$
--	---	--	--	---	--

六、选一选。

在 8、12、19、6、14、20 这些数中。

1. 从左边数起, 19 是第()个。从右边数起, 14 是第()个。

2. 和 6 相邻的两个数是()和()。

3. 最大的是(), 最小的是()。

七、在正确答案的○里画“√”。

1. 下面和 18 最接近的数是几?

10		20
○		○

2. 一个数,十位上和个位上的数字都是 1,这个数是几?

11

10


3. 一个数,个位上的数字比十位上的数字多 2,这个数是几?

13


20

八、解决问题。

1. 一共有多少根萝卜?



2. 谁的松果多?



15 ○ 14