

【冀教版单元测试系列试卷】

一年级数学上册第二单元

智慧山育儿微信公众号




扫描微信扫描二维码关注公众号可持续获取小学阶段的学习资料和老师课程

冀教版一年级数学上册第二单元测验试题

题号	一	二	三	四	五	六	七	总分
分数								

一、看图写数。



二、填一填。

1. 7 和 9 中间的数是(), 比 1 还小的数是()。



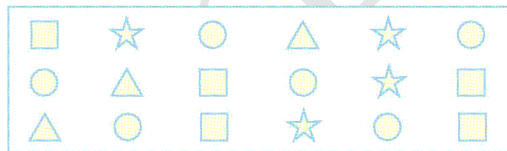
3. 分类, 填数。

1 4 9 5 0 7 6 8 10

比 5 小的数有()个, 比 5 大的数有()个。从左数, 第四个数是(), 0

排第()。

三、数一数, 圈一圈, 比一比。



() 最多, () 最少。

☆ 比 □ (多, 少) 4 ○ 5

● 比 △ (多, 少) 6 ○ 3

四、在 ○ 里填上 ">" "<" 或 "="。

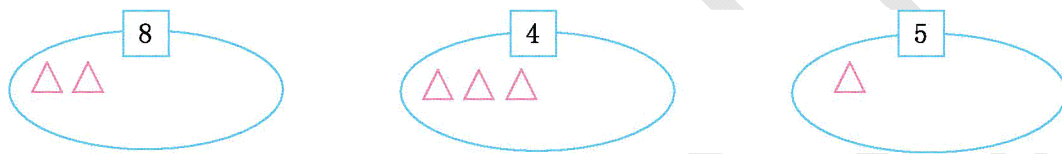
7 ○ 5 4 ○ 8 3 ○ 3 10 ○ 7 3 ○ 4
 10 ○ 9 4 ○ 4 8 ○ 3 1 ○ 10 0 ○ 9

五、□里可以填几?

□ = 6 □ > 6 7 < □ 5 < □ 4 > □

六、画一画。

1. 看数继续画。



2. 按要求画一画。

(1) 画○, 比◇少。 (2) 画●, 比☆多。 (3) 画▲, 与◇同样多。



七、看图填一填。

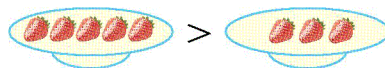


1. (1) 一共有()个水果, 其中有()个🍎, 有()个🍋。

(2) 从左数第()个、第()个、第()个是🍎。

(3) 从左数, 第4个水果是(); 从右数, 第5个水果是()。

2. 想一想: 要使 ">" 变成 "=", 应该怎么拿?



3. 数一数, 填一填。



一共有()只小动物。从左数,  排第(),  排第()。

智慧山