

【冀教版单元测试系列试卷】

一年级数学上册第一单元

智慧山育儿微信公众号



扫描微信扫描二维码关注公众号可持续获取小学阶段的学习资料和老师课程

冀教版一年级数学上册第一单元测验试题

题号	一	二	三	四	五	六	七	八	总分
分数									

一、画一画。

1. 长的画“ \triangle ”, 短的画“ \bigcirc ”。



()



()



()



()

2. 高的画“ \triangle ”, 矮的画“ \bigcirc ”。



()



()



()



()



()



()

3. 重的画“ \triangle ”, 轻的画“ \bigcirc ”。



()



()



()



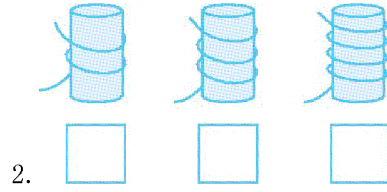
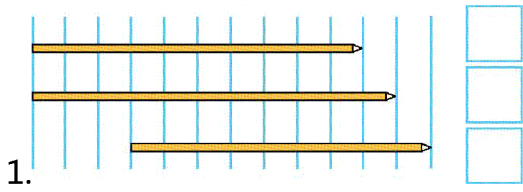
()

二、比一比。



1. 最高的画“ \square ”, 最矮的画“ \triangle ”。 2. 最厚的画“ \triangle ”, 最薄的画“ \bigcirc ”。




三、最长的画“ \square ”, 最短的画“ \triangle ”。



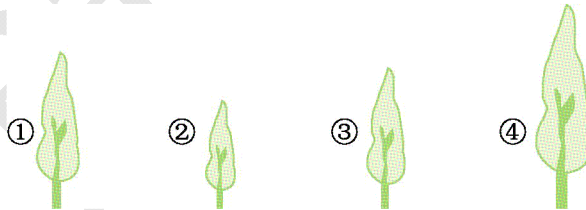
四、最重的画“□”，最轻的画“△”。



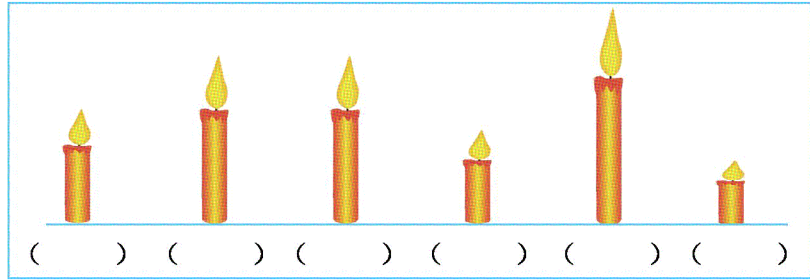
五、水最多的画“○”，最少的画“△”。



六、把下面的树按照从高到矮的顺序排列。




七、在最高的蜡烛下面画“√”，最矮的下面画“×”。




八、解决问题。

1. 哪条路近? 在近路旁画“△”。



2. 谁高一些? 在高的动物下面画“△”。



3. 下面两块石头, 哪一块放入杯子里, 水面上升得高一些? 画“△”。

