

【北师大版单元测试系列试卷】

四年级数学上册第五单元

智慧山育儿微信公众号



扫描微信扫描二维码关注公众号可持续获取小学阶段的学习资料和老师课程

北师大版四年级数学上册第五单元测验试题

(满分 : 100 分 时间 : 60 分钟)

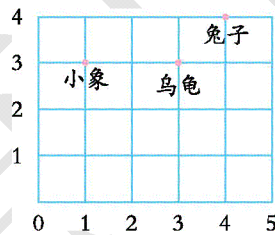
题号	一	二	三	四	五	六	七	总分
分数								

一、填空题。

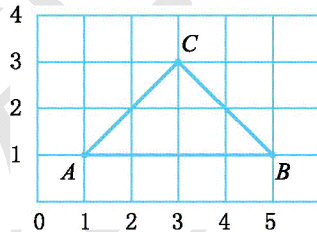
1. 地图是按上()下()、左()右()绘制的。

2. 明明坐在教室的第 3 组第 4 排,用数对表示是(3,4),丽丽坐在第 5 组第 2 排,用数对表示是()。

3. 在下图中,小象的位置用数对表示为(1,3),乌龟的位置用数对表示为(),兔子的位置用数对表示为()。

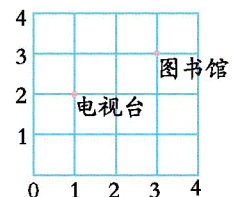


4. 点 A 用数对表示为(),点 B 用数对表示为(),点 C 用数对表示为()。



5. 四(1)班的同学站成 6×6 的方阵做操。阳阳的位置可以用数对表示为(3,6),他站在第()列第()排;如果亮亮的位置用数对表示是(y,6),可以确定他与阳阳在同一()。

6. 右图中,如果气象台和电视台同列,与图书馆同行,那么气象台的位置是()。



二、判断题。(对的画“√”,错的画“×”)

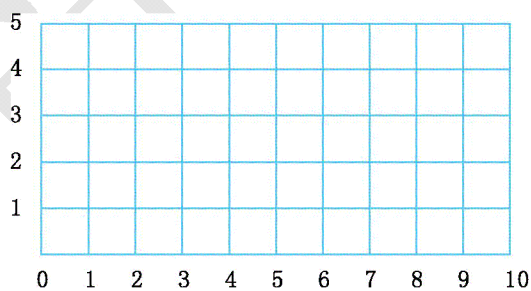
1. 数对(5,5)中,两个“5”表示的意思是一样的。 ()
2. 数对(6,7)与数对(7,6)表示的是同一位置。 ()
3. 体育课上,明明站在第3组第2排,用数对(3,2)表示,亮亮站在明明正前方的第一个位置上,亮亮的位置用数对表示是(2,2)。 ()
4. 从甲地向南偏东行驶100米到乙地,也可以说从乙地向北偏西行驶100米到甲地。 ()

三、选择题。(把正确答案的序号填在括号里)

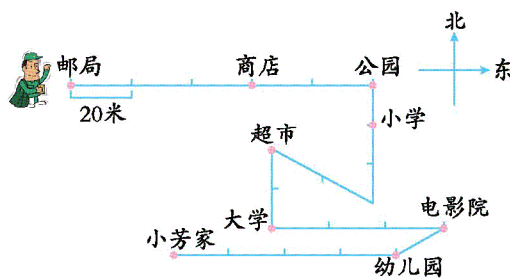
1. 用数对确定某个物体的位置时,一般需用()数据。
A. 一个 B. 两个 C. 三个
2. 数对(4,7)表示()。
A. 第4列第7行 B. 第4行第7列
C. 第3列第7行

四、操作题。

在下面的方格里标出 A(2,1),B(7,1),C(9,4),D(4,4)四个点,并把这四个点顺次连接成一个封闭图形,看看是什么图形。



五、小小邮递员。

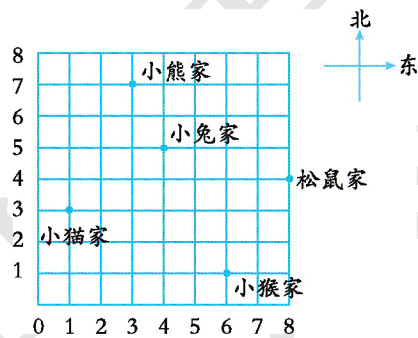


(1)邮递员叔叔从邮局出发向东走()米到商店,再向()走()米到公园。

(2)小芳从家出发向()走()米到幼儿园,再向()走()米到电影院,然后向西走 60 米到(),最后向()走()米到超市。

(3)邮递员叔叔从邮局出发,第一封信是送到小学,请你写出邮递员叔叔的行走路线和距离。

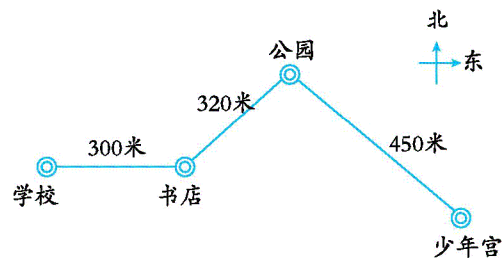
六、森林动物园。



(1)用数对表示森林动物园中各小动物的家。

(2)小猫去松鼠家怎么走?在图中画出来。

七、去少年宫。



(1) 同学们从学校出发去少年宫参加活动,先向()走()米到书店,再向()走()米到公园,最后向()走()米到少年宫。

(2) 你能描述同学们从少年宫返回学校的路线吗?