

【北师大期中测试试卷】

三年级数学上册

智慧大当家微信公众号



扫描微信扫描二维码关注公众号可持续获取小学阶段的学习资料和课程

北师大版三年级数学上册期中测验试题

(满分:100分 时间:60分钟)

题号	一	二	三	四	五	六	七	八	总分
分数									


一、填空题。(12分)

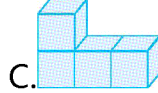
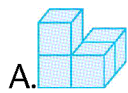
- 200和8相乘得(),1乘30得()。
- 160的4倍是(),160是4的()倍。
- 最小的三位数与最大的一位数相乘,积是()。
- 小明每天跳绳300下,他一星期能跳()下。

二、判断题。(对的画“√”,错的画“×”)(6分)

- 3个相同的数相加的和,等于这个数的3倍。()
- 计算 400×9 时,可以先计算 $4 \times 9 = 36$,再在得数后面添写两个0。()
- 一位数乘三位数,积可能是三位数,也可能是四位数。()

三、选择题。(把正确答案的序号填在括号里)(4分)

- 从正面看到的形状是的立体图形是()。



- 如下图,小明从家经过商店到学校,至少要走()米。



- A.700 B.730 C.760 D.800

- 6乘200的积是()。

A.60 B.600 C.120 D.1200

4. 一个三位数乘 2,积()。

A.一定是三位数

B.一定是四位数

C.可能是三位数,也可能是四位数

D.无法确定

四、把积相同的算式用线连起来。(8 分)

100×8 320×2 12×8 20×5

80×8 50×2 24×4 200×4

五、计算题。(21 分)

1.直接写得数。(9 分)

$$20 \times 8 = \quad 36 \div 3 = \quad 400 \times 5 =$$

$$84 \div 4 = \quad 3 \times 700 = \quad 9 \times 60 =$$

$$630 \div 7 = \quad 36 \times 2 = \quad 93 \div 3 =$$

2.计算下面各题。(12 分)

$$25 \times 8 + 9$$

$$128 + 72 \div 8$$

$$4 \times (6 + 24)$$

$$8 \times 7 - 16$$

六、在○里填上“>”“<”或“=”。(6分)

$16 \times 3 \bigcirc 13 \times 6$

$96 \div 6 \bigcirc 96 \div 4$

$21 \times 4 \bigcirc 22 \times 3$

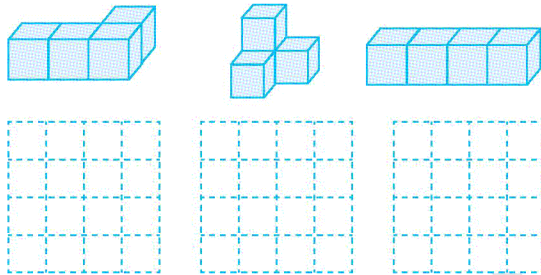
$8 \times 12 \bigcirc 6 \times 13$

$24 \times 4 \bigcirc 16 \times 6$

$200 \times 4 \bigcirc 300 \times 5$

七、操作题。(12分)

画出下列各立体图形从右面看到的形状。



八、解决问题。(31分)

1. 1袋大米的质量是1桶食用油的质量的多少倍?(5分)



大米25千克



食用油5千克

2. 动物园里有8只猩猩,每天要吃多少千克食物?(5分)




我平均每天要吃
15千克的食物。

3. 火车 3 时行驶了 270 千米,汽车每时行驶 40 千米。火车每时比汽车多行驶多少千米?(5 分)

4. 每盒 6 支钢笔,每支 23 元,买 1 盒钢笔要花多少元?(6 分)

5. 购物。(10 分)



风扇 45 元



床 200 元

(1)张老师拿 300 元,够买 2 台风扇和 1 张床吗?

(2)李老师买了 4 台风扇和 1 张床,一共花了多少元?