

【北师大版单元测试系列试卷】

三年级数学上册第三单元

智慧山育儿微信公众号



扫描微信扫描二维码关注公众号可持续获取小学阶段的学习资料和课程

北师大版三年级数学上册第三单元测验试题

(满分：100分 时间：60分钟)

题号	一	二	三	四	五	六	总分
分数							

一、填空题。

1.计算 $683-125+324$ 时,先算()法,再算()法。

2.计算 $891-(91+152)$ 时,先算()法,再算()法。

3. $721+()=836$, $532-()=365$ 。

4. $984-650=334$, $334+109=443$,把两个算式合并成一个算式是()。

5.甲数是 320,乙数比它小 36,甲数和乙数的和是()。

二、计算下面各题。

$$398+502+445$$

$$898-288-500$$

$$520+(325-226)$$

$$1000-(125+275)$$

三、在 ○ 里填上 ">" "<" 或 "=" 。

$$715-152-138 \bigcirc 715-(152-138)$$

$$700-(515-265) \bigcirc 360+250+48$$

$$380-(129+78) \bigcirc 380-129-78$$


$263+(900-600) \bigcirc 465-(325+75)$

$274+136-209 \bigcirc 274+209-136$

$361-130-78 \bigcirc 361-(130+78)$

四、选择题。(把正确答案的序号填在括号里)

1.购物。



(1)买椅子、电风扇、书包各一件要花()元。

A.94 B.294 C.304

(2)拿 400 元买电风扇、写字台各一件,求要找回多少元,列式是()。

A.120+220
B.400-120+220
C.400-(120+220)

(3)四样各买一件,要花的钱()。

A.比 500 元多
B.不到 500 元
C.比 400 元少

(4)用 300 元可以买(),并且找回最少的钱。

A.写字台、书包各一件
B.椅子、电风扇、写字台各一件
C.椅子、电风扇、书包各一件

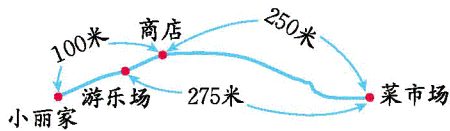
2.学校图书室的书架上有图书 1236 册,学生借阅了 562 册没有还回来,今天又运来了 530 册,求学校图书室书架上现在共有图书多少册,列式是()。

A.1236-562+530

B. $1236+562+530$

C. $1236-562-530$

3.小丽帮妈妈买东西,先到了商店,又到了菜市场,然后沿原路返回距菜市场275米的游乐场。此时:



(1)已经走了()米。

A.575 B.625 C.705

(2)距家还有()米。

A.75 B.65 C.55

4.有三个数:526、235、102。请你用“+”“-”和“()”将这三个数连接成有括号的算式,并算一算。

(1)其中最大的得数是()。

A.863 B.659 C.763

(2)其中最小的得数是()。

A.393 B.659 C.189

五、下面是小刚家电表读数的记录单。

月份	6月底	7月底	8月底	9月底
用电数/千瓦时	394	502	600	691
月份	10月底	11月底	12月底	
用电数/千瓦时	780	858	943	

(1)分别算出小刚家 7~12 各月份的用电量。

(2)小刚家下半年(7 月份至 12 月份)总的用电量是多少?

六、解决问题。

1.爸爸每月工资 950 元,妈妈每月工资 720 元。丫丫一家三口人每月生活要支出 840 元。

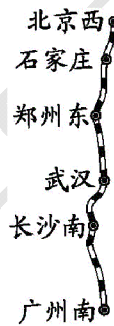
(1)请你算一算,丫丫一家每月结余多少元?

(2)爸爸想买一台价值 1600 元的电冰箱,两个月的结余够吗?

2 一本书有 242 页,小明打算三天看完,第一天看了 98 页,第二天看了 105 页,第三天要看多少页?

3.森林里原来有 275 只鸟,傍晚飞来 526 只,晚上又飞走了 348 只。森林里现在有多少只鸟?

4.下面是“北京西—广州南”沿线部分站的火车里程表。



北京西
石家庄
郑州东
武汉
长沙南
广州南

	里程/千米
北京西—石家庄	281
北京西—郑州东	693
北京西—武汉	1229
北京西—长沙南	1591
北京西—广州南	2298

(1)武汉到郑州东有多少千米?

(2)2298-1229 求的是哪两个城市之间的里程?

(3)一列火车从北京西出发,沿铁路线已经行驶了 1400 千米,在图中标出这列火车的大概位置。

(4)根据路线图请你提出一个数学问题并解答。