

【北师大版单元测试系列试卷】

三年级数学上册第二单元

智慧山育儿微信公众号



扫描微信扫描二维码关注公众号可持续获取小学阶段的学习资料和课程


北师大版三年级数学上册第二单元测验试题

(满分：100分 时间：60分钟)


题号	一	二	三	四	五	六	七	八	总分
分数									

一、看一看,连一连。



1.它们看到的房子分别是什么形状的?连一连。



2.下面右边的图形分别是谁看到的?连一连。



3. 下面的形状分别是哪个方向看到的?连一连。




从正面看

从右面看

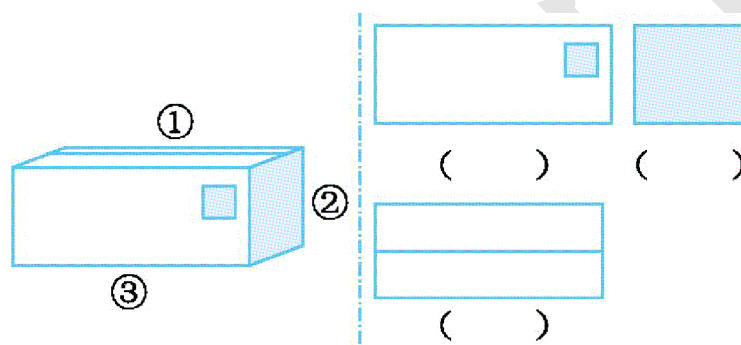
从左面看

二、看一看,填一填。

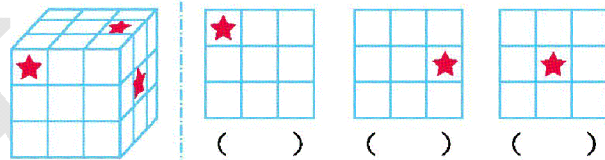
1.它们分别看到的是数字几?



2.下面右边的三幅图分别是哪个位置看到的?(填序号)




3.五角星各在大正方体的哪个面?



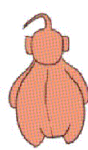

4.从哪面看两组物体的形状不相同?



三、下面右边的图形分别是谁看到的?连一连。



四、下面这些图分别是谁看到的?在括号里填上小朋友的名字。



()



()



()


五、在下面的四幅图的括号中写上小朋友的名字。



()



()


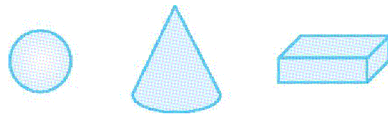


()



()

六、下面这些图形分别是哪个方向看到的?

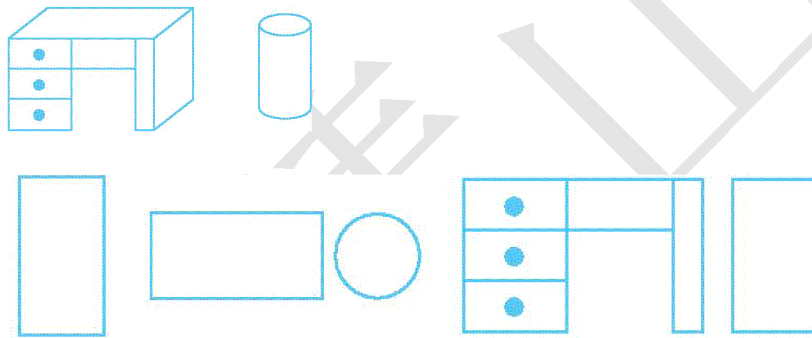


()

()

()

七、下面的图形分别是哪个方向看到的?填一填。




()

()

()

八、一个同学从正面、左面、后面观察到的房子如下图。



下面说法正确的画“√”,错误的画“×”。

1.这座房子有三扇窗户和一扇门。()

2.这座房子的窗户都在它的正面。()

3.这座房子后边有一扇窗户。()