

【北师大版单元测试系列试卷】

三年级数学上册第一单元

智慧山育儿微信公众号



扫描微信扫描二维码关注公众号可持续获取小学阶段的学习资料和老师课程

北师大版三年级数学上册第一单元测验试题

(满分 : 100 分 时间 : 60 分钟)

题号	一	二	三	四	五	六	总分
分数							

一、填空题。

1. 计算 $24 + 8 \div 4$, 应先算(), 再算(), 结果是()。
2. 计算 $(24 + 8) \div 4$, 应先算(), 再算(), 结果是()。
3. 18 与 17 的和除以 7, 商是(), 列综合算式是()。
4. 把两个算式合并成一个算式。

$$\left. \begin{array}{l} 39 + 15 = 54 \\ 54 \div 9 = 6 \end{array} \right\} \underline{\hspace{2cm}}$$

$$\left. \begin{array}{l} 6 \times 8 = 48 \\ 63 - 48 = 15 \end{array} \right\} \underline{\hspace{2cm}}$$

5. 平安停车场停了 3 排小汽车, 每排有 6 辆; 大汽车停了 9 辆。小汽车比大汽车多()辆。
6. 庆祝六一儿童节, 二(1)班装扮教室需要 86 朵纸花。手工课上乐乐和欢欢做了 38 朵, 剩下的由 6 个小朋友来做, 平均每个小朋友要做()朵。
7. 一本童话书有 62 页, 小雨每天看 8 页, 看了 7 天后, 还剩()页没看。
8. 三(1)班有女生 13 人, 男生 17 人。如果每 5 人一组做实验, 可以分成()组。列出综合算式是()。
9. 小马虎在计算 “ $2 + \square \times 6$ ” 时, 弄错了运算顺序, 先算加法后算乘法了, 结果得数是 54。正确的得数是()。
10. 丽丽在计算 “ $24 + \square \div 8$ ” 时, 弄错了运算顺序, 先算加法后算除法了, 结果得数是 7。正确的得数是()。

二、计算下面各题。

$24-12\div 2=$

$90-6\times 9=$

$80-8\times 6=$

$45\div (3+6)=$


$26+16\div 8=$

$(21-18)\times 9=$

$27\div (9-6)=$


$7\times (5+4)=$

三、下面的计算对吗?对的画“√”,错的画“×”并改正。




()

改正:




()

改正:



()

改正:



()

改正:

四、在○里填上 ">" "<" 或 "="。

$30-15+9 \bigcirc 6 \times 3+6$

$67-29-12 \bigcirc 67-(29-12)$

$7 \times 9-18 \bigcirc 8 \times 8-19$

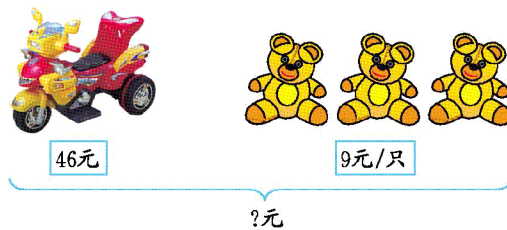
$5+35 \div 5 \bigcirc (25+7) \div 4$

$4 \times (9-6) \bigcirc 72 \div 9+2$

$35-54 \div 6 \bigcirc 18+8 \times 2$

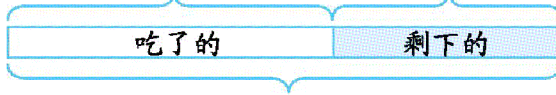
五、看图列式计算。

1.



2.

吃了25个 每盘放6个, 可以放几盘?



一共买了43个水果

六、解决问题。

1. 一共能坐多少人?




2. 李老师买了一套茶具。茶壶每把 18 元, 4 个杯子一共 28 元。一把茶壶比一个杯子贵多少元?



3.买 3 个魔方和 1 辆玩具小汽车,一共付了 48 元。每个魔方多少元?



21元

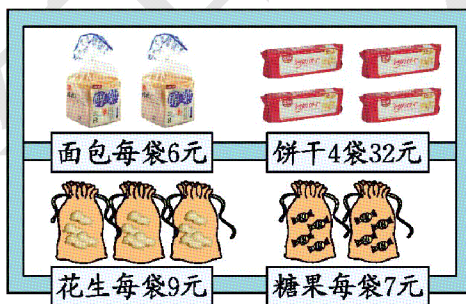


?元

4.如果每车运 9 筐,一次运完需要几辆车?



5.超市购物。



拿 100 元买了 5 袋糖果,应找回多少元?