

【北师大版单元测试系列试卷】

二年级数学上册第九单元

智慧山育儿微信公众号



扫描微信扫描二维码关注公众号可持续获取小学阶段的学习资料和课程

北师大版二年级数学上册第九单元测验试题

(满分：100分 时间：60分钟)

题号	一	二	三	四	五	六	七	八	总分
分数									

一、算一算。

$27 \div 3 =$ $6 \times 8 =$ $24 \div 4 =$ $28 \div 7 =$ $4 \times 9 =$ $35 \div 5 =$

$6 \times 3 =$ $14 \div 2 =$ $54 \div 6 =$ $16 \div 4 =$ $36 \div 6 =$ $64 \div 8 =$

二、在○里填上“>”“<”或“=”。

$25 \div 5$ ○ 4 $36 \div 6$ ○ 2×3 $16 \div 4$ ○ 4

$4 \div 4$ ○ 16 $6 \div 3$ ○ 2 $20 - 5$ ○ 4

三、在○里填上“+”“-”“×”或“÷”。

5 ○ $2 = 7$ 24 ○ $4 = 6$ 5 ○ $3 = 12$ ○ 3

$6 = 24$ ○ 4 8 ○ $4 = 2$ 30 ○ $6 = 5$ ○ 1

四、小鸟该吃哪条虫子?连一连。



$24 \div 6$



$6 \div 3$



$18 \div 6$



$10 \div 2$



$30 \div 5$



6×6



$3 \div 3$



$4 \div 2$



$8 \div 2$



$12 \div 2$



$30 + 6$



$6 \div 6$



$9 \div 3$



$25 \div 5$

五、填一填。

四六() 五()三十五 ()九六十三

$4 \times () = 24$ $5 \times () = 35$ $() \times 9 = 63$

$24 \div () = 6$ $35 \div () = 5$ $63 \div () = 9$

六、把表格填写完整。

被除数	18	40		28	24	16
除数	9	5	4			
商			9	7	6	4

七、()里最大能填几?

$6 \times () < 35$

$7 \times () < 30$

$8 \times () < 50$

$() \times 5 < 27$

$() \times 3 < 25$

$() \times 4 < 25$

八、解决问题。

1.



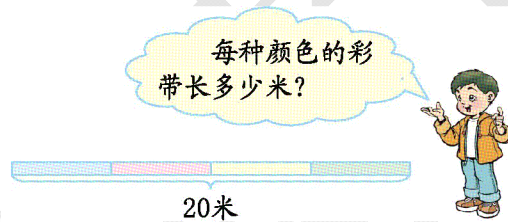
(1)坐大船需要几只?

(2)坐小船需要几只?


2.上午卖的是下午卖的多少倍?



3.



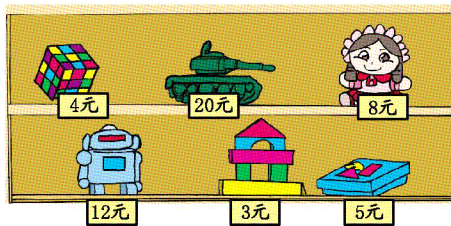
4.笼子里装着小鸡和小兔。



(1) 笼子里有几只小兔?

(2) 笼子里有几只小鸡?

5.



(1) 玩具机器人的价钱是积木的多少倍?

(2) 用 64 元可以买多少个玩具娃娃?